

Материалы для обучающихся

538

Теоретический тур

Максимальное количество баллов – 100. Время выполнения – 45 мин.







ЗАДАНИЯ ОТКРЫТОГО ТИПА

Максимальное количество баллов – 55.

Дайте развернутые или краткие ответы на следующие вопросы и задания.

1. Определение опасного природного явления

Проставьте буквы в таблицу ответов

		
1	2	3
		
4	5	6
<p>А. Смещение масс горных пород по склону под воздействием собственного веса и дополнительной нагрузки вследствие подмыва склона, переувлажнения, сейсмических толчков и иных процессов.</p>		
<p>Б. Затопление водой местности, прилегающей к реке, озеру или водохранилищу, которое наносит урон здоровью людей или даже приводит к их гибели, а также причиняет материальный ущерб.</p>		
<p>В. Быстрое, внезапно возникающее движение снега и (или) льда вниз по крутым склонам гор, представляющее угрозу жизни и здоровью людей</p>		
<p>Г. Перенос снега над поверхностью земли сильным ветром, возможно, в</p>		

сочетании с выпадением снега, приводящий к ухудшению видимости и заносу транспортных магистралей

Д. Сильный маломасштабный атмосферный вихрь, в котором воздух вращается со скоростью до 100 м/с, обладающий большой разрушительной силой.

Е. Отрыв и катастрофическое падение больших масс горных пород, их опрокидывание, дробление и скатывание на крутых и обрывистых склонах.

Ответ

Картинка	1	2	3	4	5	6
Название	лавины ²⁵	сели ⁰⁵	обвал ⁰⁵	вихрь ⁰⁵	буря ⁰⁵	наводнение ²⁵
Понятие	В ²⁵	А ⁰⁵	Е ⁰⁵	Д ²⁵	Г ²⁵	Б ²⁵

Максимальная оценка за правильно выполненное задание – 25 баллов, при этом:

- за каждый правильный ответ начисляется по 2 балла;
- если указано все ответы (правильные), то выставляется ещё 1 балл;
- при отсутствии правильных ответов баллы не начисляются.

Оценка за задание 125

2. Вы с родителями были в торговом центре и делали покупки. Внезапно сработала пожарная сигнализация и началась паника среди посетителей. На пути к выходу из торгового центра, Вы потеряли из вида родителей и выронили пакет с покупками.

Выберите из предлагаемых вариантов дальнейшие действия и определите их очерёдность.

1. Попытаться растолкать людей и найти родителей.
2. Кричать и звать родителей.
3. Держаться в середине толпы и после прохода узких мест постараться выбраться из неё.
4. Искать родителей после окончания паники.
5. Забыть опакете с покупками, собраться, застегнуть одежду.

6. Наклониться и поднять пакет с покупками.
7. Постараться выбраться из толпы, используя столб, памятник.
8. Позвонить домой, сообщить, что все в порядке.
9. Обратиться в полицию, сообщить о том, что потерялись.
10. Прийти на место встречи с родителями, которое вы заранее обговорили. ✓

Ответ: 5, 8, 10, 4, 5 85
Прийти на место встречи с родителями, которое вы заранее обговорили.

Максимальная оценка за правильно выполненное задание – 8 баллов, при этом:

- за каждый правильный ответ начисляется по 2 балла;
- при отсутствии правильных ответов баллы не начисляются.

Оценка за задание 85 баллов

3. С помощью значка «+» оцените качество наложения жгута. Проставьте знак в таблицу.

Признак	Правильно	Слишком туго	Слишком слабо
Кровотечение прекратилось	+ 10		
Конечность очень холодная		+ 10	
Пульс ниже жгута не прощупывается		+ 05	
Повязка обильно пропитана кровью			+ 10
Конечность очень бледная		+ 10	
Паралич конечности		+ 10	
Конечность синюшная		+ 05	
Пульс ниже жгута прощупывается	+ 05		
Температура конечности нормальная	+ 05		
Конечность бледная		+ 05	

Максимальная оценка за правильно выполненное задание – 10 баллов, при этом:

- за каждый правильный ответ начисляется по 1 баллу;
- при отсутствии правильных ответов баллы не начисляются.

Оценка за задание 50 баллов

4. Соотнесите названия ягод с их лечебными свойствами.

Название ягод	Лечебные свойства
1. Брусника	А. Повышает работоспособность, сопротивляемость организма к инфекциям.
2. Рябина	Б. Помогает при болезни суставов, повышение давления, снимает усталость.
3. Шиповник	В. Помогает при простудных заболеваниях, улучшает нервную систему и укрепляет иммунитет.
4. Смородина	Г. Снимает боли в суставах, усталость, способствует выведению токсинов.
5. Малина	Д. Снимает усталость, головную боль, возбуждает аппетит.
6. Облепиха	Е. Повышает жизненный тонус. Улучшает аппетит, нормализует работу желудка и кишечника.

Ответ: 1. $\frac{А}{00}$; 2. $\frac{Б}{25}$; 3. $\frac{В}{00}$; 4. $\frac{Г}{00}$; 5. $\frac{Д}{28}$; 6. $\frac{Е}{00}$.

Максимальная оценка за правильно выполненное задание – 12 баллов, при этом:

- за каждый правильный ответ начисляется по 2 балла;

- при отсутствии правильных ответов баллы не начисляются.

Оценка за задание 48 баллов

ТЕСТИРОВАНИЕ

Максимальное количество баллов – 45, по 3 балла за каждый правильный ответ.

Из предложенных вариантов ответов выберите один правильный.

Правильный вариант ответа выделите любым знаком.

38 5. Что необходимо делать человеку, который попал в зыбучие пески?

- А) лечь на спину и, перемещаясь на спине, добраться до сухого участка земли;
- Б) быстро двигаться частыми энергичными прыжками;
- В) делать широкие шаги, расставив руки в стороны;
- Г) лечь на бок, двигаться ногами вперед, помогая себе руками.

38 6. Во время тумана и темноты дети обязательно должны иметь светоотражающие детали, которые нужно пришить на куртку, или прицепить к рюкзаку. Эти светоотражатели называют:

- А) флатун;
- Б) клипер;
- В) фликер;
- Г) клинкер.

08 7. При какой чрезвычайной ситуации вам могут помочь эти предметы: связка ключей, фонарик, ручка и расчёска?

- А) подача сигналов бедствия;
- Б) спасение из-под завала дома;
- В) защита от нападения хулиганов;
- Г) спасение при дорожно-транспортном происшествии.

08 8. На платформе метро Вы увидели оставленную без присмотра сумку. Как следует поступить?

- А) поднести сумку к комнате полиции и отдать полицейскому;
- Б) пройти мимо и ничего не предпринимать;
- В) оповестить окружающих и сообщить о сумке полицейскому или дежурному по станции;

Г) найти дежурного по станции и передать ему сумку.

38 9. Какой тканевый материал будет лучше всего задерживать тепло, если вы промокли под дождем?

А) хлопок;

Б) шерсть;

В) брезент;

Г) синтетика.

08 10. Вы вышли на тропу и увидели маркировку туристических маршрутов (металлические таблички, раскрашенные в три горизонтальные полосы). Каким цветом обозначены эти маркировки?

А) Белая-синяя-белая;

Б) Желтая-синяя-желтая;

В) Зеленая-белая-зеленая;

Г) Красная-белая-красная.

08 11. Это растение насчитывает более 200 видов, встречается на лугах, в степях, в лесах, в горах. Съедобное все, а также прекрасное средство против цинги:

А) лопух;

Б) рогоз;

В) лук;

Г) земляника.

38 12. В полевых условиях, когда нужно обработать рану, нужен йод, но его по разным причинам не взяли. Какое растение, а точнее соком этого растения можно заменить раствор йода?

А) крапива;

Б) иван-чай;

В) мята;

Г) медуница.

- 08 13. Какое из сокращений соответствует углекислотному типу огнетушителя?
- А) ОП;
 - Б) ОУ;
 - В) ОУК;
 - Г) УГтО.
- 38 14. Если загорелся компьютер, а вы были дома одни, то каким будет ваше первое действие?
- А) вызвать пожарную службу;
 - Б) позвонить родителям;
 - В) залить огонь водой;
 - Г) обесточить компьютер.
- 38 15. Каждый предмет бытовой химии имеет пояснительные надписи, объясняющие степень его опасности. Поясните, что означает относительно надпись «Относительно безопасные вещества»?
- А) наносят вред если попали в глаза или на определенные участки тела;
 - Б) наносят вред если их смешать с другими бытовыми химическими средствами;
 - В) наносят вред если рядом находятся огнеопасные вещества;
 - Г) не наносят вред, если их не пить.
- 38 16. Что вы сделаете в первую очередь, если потеряли ключи от дома?
- А) сообщите в полицию, они-то обязательно найдут;
 - Б) сообщите родителям, они могут дать свой ключ;
 - В) попросите незнакомца взломать дверь, чтоб вы взяли запасные;
 - Г) ничего не сделаю, промолчу, могут наказать.
- 08 17. Бродячая собака забежала в подъезд и не хочет выходить долгое время. Что можно посоветовать жильцам этого дома в данной ситуации?
- А) приютить собаку кому-то из жильцов;
 - Б) позвонить в службу спасения и вызвать специалистов;

- В) позвонить в полицию, пусть решают проблемы;
Г) позвонить в ЖКХ, они отвечают за порядок в домах.

Выберите несколько вариантов ответов:

05

18. Какие из перечисленных косвенных признаков указывают на то, что растение съедобно для человека?

- А) кора растения обглодана животными;
Б) растение имеет плоды с яркой окраской;
 В) растение имеет небольшую высоту;
Г) плоды растения поклёваны птицами;
Д) растение имеет засохшее основание;
Е) у основания растения множество косточек;
Ж) плоды растения обнаружены в гнёздах;
 З) растение имеет приятный запах.

25

19. Какие из перечисленных требований пожарной безопасности следует соблюдать при выборе места для разведения костра?

- А) место разведения костра должно быть хорошо проветриваемым;
Б) место разведения костра должно быть ровным;
В) место разведения костра должно находиться не далее, чем в 10 метрах от водоёма;
 Г) место разведения костра должно быть очищено от травы, листьев и т. п.;
 Д) место разведения костра должно быть окопано;
 Е) место разведения костра должно быть обложено поленьями.

Оценка за задания 245 баллов

Материалы для обучающихся
Теоретический тур

Максимальное количество баллов – 100. Время выполнения – 45 мин.







ЗАДАНИЯ ОТКРЫТОГО ТИПА

Максимальное количество баллов – 55.

Дайте развернутые или краткие ответы на следующие вопросы и задания.

1. Определение опасного природного явления

Проставьте буквы в таблицу ответов

		
1 В	2 Е	3 А
		
4 Д	5 Г	6 Б
<p>А. Смещение масс горных пород по склону под воздействием собственного веса и дополнительной нагрузки вследствие подмыва склона, переувлажнения, сейсмических толчков и иных процессов.</p>		
<p>Б. Затопление водой местности, прилегающей к реке, озеру или водохранилищу, которое наносит урон здоровью людей или даже приводит к их гибели, а также причиняет материальный ущерб.</p>		
<p>В. Быстрое, внезапно возникающее движение снега и (или) льда вниз по крутым склонам гор, представляющее угрозу жизни и здоровью людей</p>		
<p>Г. Перенос снега над поверхностью земли сильным ветром, возможно, в</p>		

сочетании с выпадением снега, приводящий к ухудшению видимости и заносу транспортных магистралей

Д. Сильный маломасштабный атмосферный вихрь, в котором воздух вращается со скоростью до 100 м/с, обладающий большой разрушительной силой.

Е. Отрыв и катастрофическое падение больших масс горных пород, их опрокидывание, дробление и скатывание на крутых и обрывистых склонах.

Ответ

Картинка	1	2	3	4	5	6
Название	Август 20	Камнепад 20	—	Ураган 20	Снежный наводнение 20	наводнение 20
Понятие	В 20	Е 20	А 20	Д 20	Г 20	Б 20

Максимальная оценка за правильно выполненное задание – 25 баллов, при этом:

- за каждый правильный ответ начисляется по 2 балла;
- если указано все ответы (правильные), то выставляется ещё 1 балл;
- при отсутствии правильных ответов баллы не начисляются.

Оценка за задание 22 0

2. Вы с родителями были в торговом центре и делали покупки. Внезапно сработала пожарная сигнализация и началась паника среди посетителей. На пути к выходу из торгового центра, Вы потеряли из вида родителей и выронили пакет с покупками.

Выберите из предлагаемых вариантов дальнейшие действия и определите их очерёдность.

- 1) Попытаться растолкать людей и найти родителей.
- 2) Кричать и звать родителей.
3. Держаться в середине толпы и после прохода узких мест постараться выбраться из неё.
4. Искать родителей после окончания паники.
- 5) Забыть опакете с покупками, собраться, застегнуть одежду.

6. Наклониться и поднять пакет с покупками.
7. Постараться выбраться из толпы, используя столб, памятник.
8. Позвонить домой, сообщить, что все в порядке.
9. Обратиться в полицию, сообщить о том, что потерялись.
10. Прийти на место встречи с родителями, которое вы заранее обговорили.

Ответ: 2, 4, 7, 10, 5, 6, 9, 8 6б

Максимальная оценка за правильно выполненное задание – 8 баллов, при этом:

- за каждый правильный ответ начисляется по 2 балла;
- при отсутствии правильных ответов баллы не начисляются.

Оценка за задание 6б баллов

3. С помощью значка «+» оцените качество наложения жгута. Проставьте знак в таблицу.

Признак	Правильно	Слишком туго	Слишком слабо
Кровотечение прекратилось	+ 6		
Конечность очень холодная			+ 0
Пульс ниже жгута не прощупывается		+ 0	
Повязка обильно пропитана кровью	+ 0		
Конечность очень бледная		+ 10	
Паралич конечности		+ 10	
Конечность синюшная			+ 0
Пульс ниже жгута прощупывается		+ 0	
Температура конечности нормальная	+ 6		
Конечность бледная		+ 0	

Максимальная оценка за правильно выполненное задание – 10 баллов, при этом:

- за каждый правильный ответ начисляется по 1 баллу;
- при отсутствии правильных ответов баллы не начисляются.

Оценка за задание 3 баллов

4. Соотнесите названия ягод с их лечебными свойствами.

Название ягод	Лечебные свойства
1. Брусника	А. Повышает работоспособность, сопротивляемость организма к инфекциям.
2. Рябина	Б. Помогает при болезни суставов, повышение давления, снимает усталость.
3. Шиповник	В. Помогает при простудных заболеваниях, улучшает нервную систему и укрепляет иммунитет.
4. Смородина	Г. Снимает боли в суставах, усталость, способствует выведению токсинов.
5. Малина	Д. Снимает усталость, головную боль, возбуждает аппетит.
6. Облепиха	Е. Повышает жизненный тонус. Улучшает аппетит, нормализует работу желудка и кишечника.

Ответ: 1. Б; 2. Г; 3. А; 4. В; 5. Д; 6. Е.

Максимальная оценка за правильно выполненное задание – 12 баллов, при этом:

- за каждый правильный ответ начисляется по 2 балла;

- при отсутствии правильных ответов баллы не начисляются.

Оценка за задание 12 баллов

ТЕСТИРОВАНИЕ

Максимальное количество баллов – 45, по 3 балла за каждый правильный ответ.

Из предложенных вариантов ответов выберите один правильный.

Правильный вариант ответа выделите любым знаком.

5. Что необходимо делать человеку, который попал в зыбучие пески?

- А) лечь на спину и, перемещаясь на спине, добраться до сухого участка земли;
- Б) быстро двигаться частыми энергичными прыжками;
- В) делать широкие шаги, расставив руки в стороны;
- Г) лечь на бок, двигаться ногами вперед, помогая себе руками.

6. Во время тумана и темноты дети обязательно должны иметь светоотражающие детали, которые нужно пришить на куртку, или прицепить к рюкзаку. Эти светоотражатели называют:

- А) флатун;
- Б) клипер;
- В) фликер;
- Г) клинкер.

7. При какой чрезвычайной ситуации вам могут помочь эти предметы: связка ключей, фонарик, ручка и расчёска?

- А) подача сигналов бедствия;
- Б) спасение из-под завала дома;
- В) защита от нападения хулиганов;
- Г) спасение при дорожно-транспортном происшествии.

8. На платформе метро Вы увидели оставленную без присмотра сумку. Как следует поступить?

- А) поднести сумку к комнате полиции и отдать полицейскому;
- Б) пройти мимо и ничего не предпринимать;
- В) оповестить окружающих и сообщить о сумке полицейскому или дежурному по станции;

Г) найти дежурного по станции и передать ему сумку.

9. Какой тканевый материал будет лучше всего задерживать тепло, если вы промокли под дождем?

А) хлопок;

Б) шерсть;

В) брезент;

Г) синтетика.

10. Вы вышли на тропу и увидели маркировку туристических маршрутов (металлические таблички, раскрашенные в три горизонтальные полосы).

Каким цветом обозначены эти маркировки?

А) Белая-синяя-белая;

Б) Желтая-синяя-желтая;

В) Зеленая-белая-зеленая;

Г) Красная-белая-красная.

11. Это растение насчитывает более 200 видов, встречается на лугах, в степях, в лесах, в горах. Съедобное все, а также прекрасное средство против цинги:

А) лопух;

Б) рогоз;

В) лук;

Г) земляника.

12. В полевых условиях, когда нужно обработать рану, нужен йод, но его по разным причинам не взяли. Какое растение, а точнее соком этого растения можно заменить раствор йода?

А) крапива;

Б) иван-чай;

В) мята;

Г) медуница.

13. Какое из сокращений соответствует углекислотному типу огнетушителя?

А) ОП;

Б) ОУ;

В) ОУК;

Г) УГТО. 0

14. Если загорелся компьютер, а вы были дома одни, то каким будет ваше первое действие?

А) вызвать пожарную службу;

Б) позвонить родителям;

В) залить огонь водой;

Г) обесточить компьютер. 0

15. Каждый предмет бытовой химии имеет пояснительные надписи, объясняющие степень его опасности. Поясните, что означает относительно надпись «Относительно безопасные вещества»?

А) наносят вред если попали в глаза или на определенные участки тела;

Б) наносят вред если их смешать с другими бытовыми химическими средствами;

В) наносят вред если рядом находятся огнеопасные вещества;

Г) не наносят вред, если их не пить. 3

16. Что вы сделаете в первую очередь, если потеряли ключи от дома?

А) сообщите в полицию, они-то обязательно найдут;

Б) сообщите родителям, они могут дать свой ключ; 3

В) попросите незнакомца взломать дверь, чтоб вы взяли запасные;

Г) ничего не сделаю, промолчу, могут наказать.

17. Бродячая собака забежала в подъезд и не хочет выходить долгое время. Что можно посоветовать жильцам этого дома в данной ситуации?

А) приютить собаку кому-то из жильцов;

Б) позвонить в службу спасения и вызвать специалистов; 3

- В) позвонить в полицию, пусть решают проблемы;
Г) позвонить в ЖКХ, они отвечают за порядок в домах.

Выберите несколько вариантов ответов:

18. Какие из перечисленных косвенных признаков указывают на то, что растение съедобно для человека?

- А) кора растения обглодана животными;
 Б) растение имеет плоды с яркой окраской;
 В) растение имеет небольшую высоту;
 Г) плоды растения поклёваны птицами;
 Д) растение имеет засохшее основание;
 Е) у основания растения множество косточек;
 Ж) плоды растения обнаружены в гнёздах;
З) растение имеет приятный запах.

35

19. Какие из перечисленных требований пожарной безопасности следует соблюдать при выборе места для разведения костра?

- А) место разведения костра должно быть хорошо проветриваемым;
 Б) место разведения костра должно быть ровным;
В) место разведения костра должно находиться не далее, чем в 10 метрах от водоёма;
Г) место разведения костра должно быть очищено от травы, листьев и т. п.;
 Д) место разведения костра должно быть окопано;
Е) место разведения костра должно быть обложено поленьями.

26

Оценка за задания 26 баллов

Материалы для обучающихся

Теоретический тур

Максимальное количество баллов – 100. Время выполнения – 45 мин.




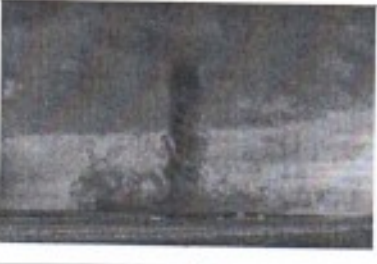


ЗАДАНИЯ ОТКРЫТОГО ТИПА

Максимальное количество баллов – 55.

Дайте развернутые или краткие ответы на следующие вопросы и задания.

1. Определение опасного природного явления

Проставьте буквы в таблицу ответов

		
1	2 А	3
		
4	5 Д К	6 Б
<p>А. Смещение масс горных пород по склону под воздействием собственного веса и дополнительной нагрузки вследствие подмыва склона, переувлажнения, сейсмических толчков и иных процессов.</p>		
<p>Б. Затопление водой местности, прилегающей к реке, озеру или водохранилищу, которое наносит урон здоровью людей или даже приводит к их гибели, а также причиняет материальный ущерб.</p>		
<p>В. Быстрое, внезапно возникающее движение снега и (или) льда вниз по крутым склонам гор, представляющее угрозу жизни и здоровью людей</p>		
<p>Г. Перенос снега над поверхностью земли сильным ветром, возможно, в</p>		

сочетании с выпадением снега, приводящий к ухудшению видимости и заносу транспортных магистралей

Д. Сильный маломасштабный атмосферный вихрь, в котором воздух вращается со скоростью до 100 м/с, обладающий большой разрушительной силой.

Е. Отрыв и катастрофическое падение больших масс горных пород, их опрокидывание, дробление и скатывание на крутых и обрывистых склонах.

Ответ

Картинка	1	2	3	4	5	6
Название	снежная лавина 25	каменная лавина 25	—	тарзанка 25	метель 25	Мавзолей 25
Понятие	В 25	А 25	Е 25	М 25	Г 25	Б 25

Максимальная оценка за правильно выполненное задание – 25 баллов, при этом:

- за каждый правильный ответ начисляется по 2 балла;
- если указано все ответы (правильные), то выставляется ещё 1 балл;
- при отсутствии правильных ответов баллы не начисляются.

Оценка за задание 18

2. Вы с родителями были в торговом центре и делали покупки. Внезапно сработала пожарная сигнализация и началась паника среди посетителей. На пути к выходу из торгового центра, Вы потеряли из вида родителей и выронили пакет с покупками.

Выберите из предлагаемых вариантов дальнейшие действия и определите их очерёдность.

1. Попытаться растолкать людей и найти родителей.
2. Кричать и звать родителей.
3. Держаться в середине толпы и после прохода узких мест постараться выбраться из неё.
4. Искать родителей после окончания паники.
5. Забыть опакете с покупками, собраться, застегнуть одежду.

6. Наклониться и поднять пакет с покупками.
7. Постараться выбраться из толпы, используя столб, памятник.
8. Позвонить домой, сообщить, что все в порядке.
9. Обратиться в полицию, сообщить о том, что потерялись.
10. Прийти на место встречи с родителями, которое вы заранее обговорили.

Ответ: ч, 10 чб

Максимальная оценка за правильно выполненное задание – 8 баллов, при этом:

- за каждый правильный ответ начисляется по 2 балла;
- при отсутствии правильных ответов баллы не начисляются.

Оценка за задание 4б баллов

3. С помощью значка «+» оцените качество наложения жгута. Проставьте знак в таблицу.

Признак	Правильно	Слишком туго	Слишком слабо
Кровотечение прекратилось	+ 1б		
Конечность очень холодная			+
Пульс ниже жгута не прощупывается		+	
Повязка обильно пропитана кровью			+ 1б
Конечность очень бледная		+ 1б	
Паралич конечности		+ 1б	
Конечность синюшная		+ 0б	
Пульс ниже жгута прощупывается	+ 0б		
Температура конечности нормальная	+ 1б		
Конечность бледная			+ 0б

Максимальная оценка за правильно выполненное задание – 10 баллов, при этом:

- за каждый правильный ответ начисляется по 1 баллу;
- при отсутствии правильных ответов баллы не начисляются.

Оценка за задание 4б баллов

4. Соотнесите названия ягод с их лечебными свойствами.

Название ягод	Лечебные свойства
1. Брусника	А. Повышает работоспособность, сопротивляемость организма к инфекциям.
2. Рябина	Б. Помогает при болезни суставов, повышение давления, снимает усталость.
3. Шиповник	В. Помогает при простудных заболеваниях, улучшает нервную систему и укрепляет иммунитет.
4. Смородина	Г. Снимает боли в суставах, усталость, способствует выведению токсинов.
5. Малина	Д. Снимает усталость, головную боль, возбуждает аппетит.
6. Облепиха	Е. Повышает жизненный тонус. Улучшает аппетит, нормализует работу желудка и кишечника.

Ответ: 1. Д; 2. А; 3. Б; 4. В; 5. Е; 6. Г

Максимальная оценка за правильно выполненное задание – 12 баллов, при этом:

- за каждый правильный ответ начисляется по 2 балла;

- при отсутствии правильных ответов баллы не начисляются.

Оценка за задание 6 баллов

ТЕСТИРОВАНИЕ

Максимальное количество баллов – 45, по 3 балла за каждый правильный ответ.

Из предложенных вариантов ответов выберите один правильный.

Правильный вариант ответа выделите любым знаком.

5. Что необходимо делать человеку, который попал в зыбучие пески?

- А) лечь на спину и, перемещаясь на спине, добраться до сухого участка земли;
- Б) быстро двигаться частыми энергичными прыжками; 30
- В) делать широкие шаги, расставив руки в стороны;
- Г) лечь на бок, двигаться ногами вперед, помогая себе руками.

6. Во время тумана и темноты дети обязательно должны иметь светоотражающие детали, которые нужно пришить на куртку, или прицепить к рюкзаку. Эти светоотражатели называют:

- А) флатун;
- Б) клипер;
- В) фликер; 30
- Г) клинкер.

7. При какой чрезвычайной ситуации вам могут помочь эти предметы: связка ключей, фонарик, ручка и расчёска?

- А) подача сигналов бедствия;
- Б) спасение из-под завала дома; 05
- В) защита от нападения хулиганов;
- Г) спасение при дорожно-транспортном происшествии.

8. На платформе метро Вы увидели оставленную без присмотра сумку.

Как следует поступить?

- А) поднести сумку к комнате полиции и отдать полицейскому;
- Б) пройти мимо и ничего не предпринимать;
- В) оповестить окружающих и сообщить о сумке полицейскому или дежурному по станции; 30

Г) найти дежурного по станции и передать ему сумку.

9. Какой тканевый материал будет лучше всего задерживать тепло, если вы промокли под дождем?

А) хлопок;

Б) шерсть;

В) брезент;

Г) синтетика.

10. Вы вышли на тропу и увидели маркировку туристических маршрутов (металлические таблички, раскрашенные в три горизонтальные полосы).

Каким цветом обозначены эти маркировки?

А) Белая-синяя-белая;

Б) Желтая-синяя-желтая;

В) Зеленая-белая-зеленая;

Г) Красная-белая-красная.

11. Это растение насчитывает более 200 видов, встречается на лугах, в степях, в лесах, в горах. Съедобное все, а также прекрасное средство против цинги:

А) лопух;

Б) рогоз;

В) лук;

Г) земляника.

12. В полевых условиях, когда нужно обработать рану, нужен йод, но его по разным причинам не взяли. Какое растение, а точнее соком этого растения можно заменить раствор йода?

А) крапива;

Б) иван-чай;

В) мята;

Г) медуница.

13. Какое из сокращений соответствует углекислотному типу огнетушителя?

А) ОП;

Б) ОУ;

В) ОУК;

Г) УГТО. *об*

14. Если загорелся компьютер, а вы были дома одни, то каким будет ваше первое действие?

А) вызвать пожарную службу;

Б) позвонить родителям;

В) залить огонь водой;

Г) обесточить компьютер. *об*

15. Каждый предмет бытовой химии имеет пояснительные надписи, объясняющие степень его опасности. Поясните, что означает относительно надпись «Относительно безопасные вещества»?

А) наносят вред если попали в глаза или на определенные участки тела;

Б) наносят вред если их смешать с другими бытовыми химическими средствами; *об*

В) наносят вред если рядом находятся огнеопасные вещества;

Г) не наносят вред, если их не пить.

16. Что вы сделаете в первую очередь, если потеряли ключи от дома?

А) сообщите в полицию, они-то обязательно найдут; *об*

Б) сообщите родителям, они могут дать свой ключ;

В) попросите незнакомца взломать дверь, чтоб вы взяли запасные;

Г) ничего не сделаю, промолчу, могут наказать.

17. Бродячая собака забежала в подъезд и не хочет выходить долгое время. Что можно посоветовать жильцам этого дома в данной ситуации?

А) приютить собаку кому-то из жильцов; *об*

Б) позвонить в службу спасения и вызвать специалистов;

- В) позвонить в полицию, пусть решают проблемы;
Г) позвонить в ЖКХ, они отвечают за порядок в домах.

Выберите несколько вариантов ответов:

18. Какие из перечисленных косвенных признаков указывают на то, что растение съедобно для человека?

- А) кора растения обглодана животными;
Б) растение имеет плоды с яркой окраской;
В) растение имеет небольшую высоту;
Г) плоды растения поклёваны птицами; *об*
Д) растение имеет засохшее основание;
Е) у основания растения множество косточек;
Ж) плоды растения обнаружены в гнёздах;
З) растение имеет приятный запах.

19. Какие из перечисленных требований пожарной безопасности следует соблюдать при выборе места для разведения костра?

- А) место разведения костра должно быть хорошо проветриваемым;
Б) место разведения костра должно быть ровным;
В) место разведения костра должно находиться не далее, чем в 10 метрах от водоёма;
Г) место разведения костра должно быть очищено от травы, листьев и т. п.;
Д) место разведения костра должно быть окопано; *зб*
Е) место разведения костра должно быть обложено поленьями.

Оценка за задания 21 баллов

Материалы для обучающихся
ТЕОРЕТИЧЕСКИЙ ТУР

Максимальное количество баллов – 100. Время выполнения – 45 мин.

ЗАДАНИЯ ОТКРЫТОГО ТИПА

Максимальное количество баллов – 55.

Дайте *полные* или *краткие ответы* на задания, *вписав их* в соответствии с требованием к их выполнению.

1. Очень часто для перегонки какого-нибудь вещества из пункта «А» в пункт «Б» используют трубопровод. Опознавательная окраска внешней поверхности трубопровода, указывает на свойства транспортирующего вещества. Определите по цвету поверхности трубопровода, какие укрупненные группы веществ (*газы, пар, вода, кислоты, горючие жидкости, щелочь, кислород*) транспортируют по нему в каждом случае?

№	Цвет трубопровода	Вещество
1	Красный	<i>кисл</i> 16
2	Оранжевый	<i>щелочи</i> 16
3	Желтый	<i>газ</i> 16
4	Зеленый	<i>вода</i> 16
5	Синий	<i>воздух</i> 08
6	Фиолетовый	<i>щелочь</i> 16
7	Коричневый	<i>горючие жидкости</i> 16

Максимальная оценка за правильно выполненное задание – 7 баллов

Оценка за задание 6 баллов

2. Заполните таблицу, используя подсказки.

Шкалы: *скорость ветра; классификации смерча; сила землетрясения; сила цунами; сила ураганов; сила ущерба землетрясения.*

Максимальный балл в шкале измерения данного явления: 4, 6, 9, 12

Ученые: А. Иمامура; Д. Меркалли; Г. Саффир; Т. Фудзит; Ч.Рихтер; Ф. Бофорт; Р. Симпсон

Шкала	Баллы	Ученые
Скорость ветра 2б	12 2б	Ф. Бофорт 2б
Классификация землетрясений 2б	6 2б	Т. Фудзит 2б
Масштаб землетрясения 2б	9 2б	Ч. Рихтер 2б
Масштаб цунами 2б	6 2б	А. Иمامура 2б
Масштаб ураганов 2б	12 0б	Ф. Бофорт 0б
Масштаб землетрясения 2б	9 0б	Ч. Рихтер 0б

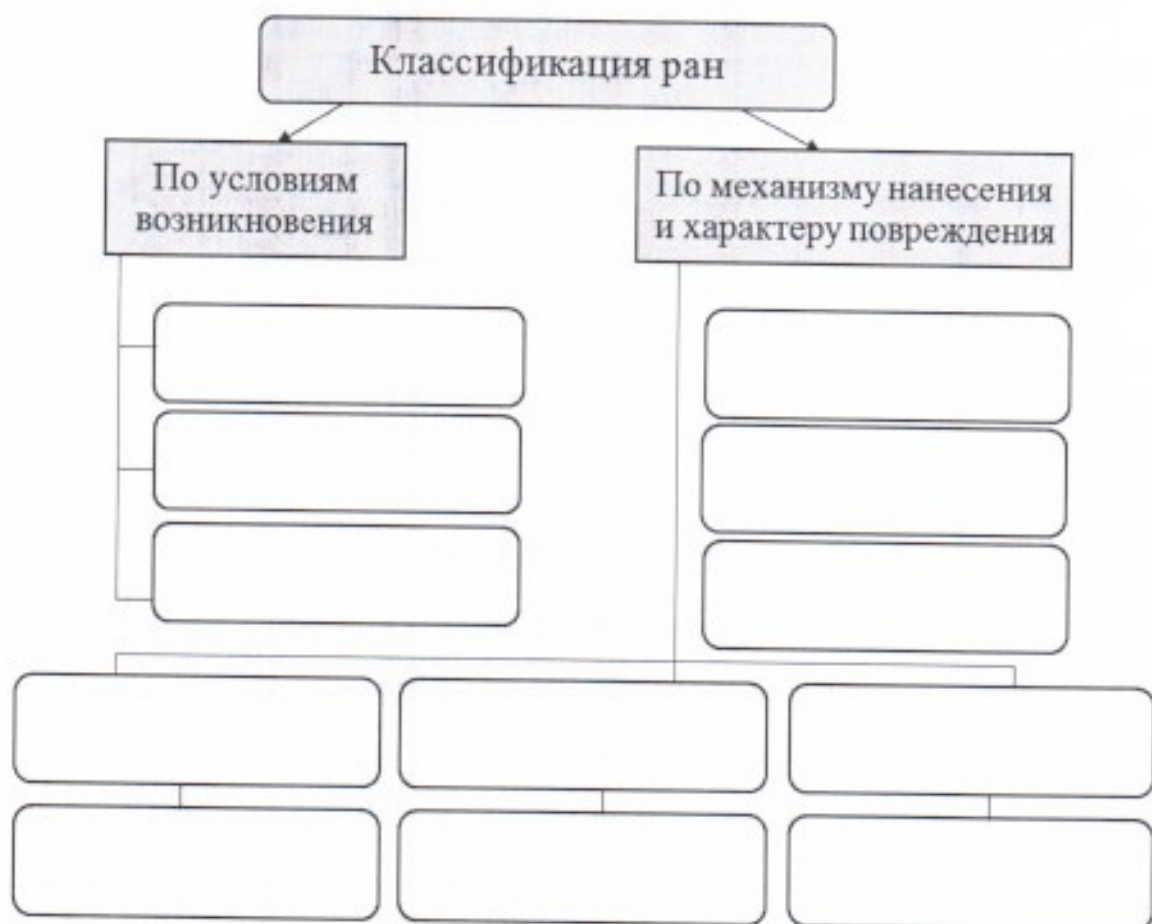
Максимальная оценка за правильно выполненное задание – 24 балла

Оценка за задание 24 баллов

3. Напишите определение понятия «Рана» и заполните схему классификации ран.

А) РАНА – это повреждение тканей и органов, вызванное
внешним механическим воздействием

2б



Б)

Максимальная оценка за правильно выполненное задание – 15 баллов

Оценка за задание 2 баллов

4. Правила наложения повязок. Впишите недостающие слова.

С далекой древности врачи с успехом используют при лечении ран различные повязки, изготовленные из ткани, чаще всего — из шерсти. 1б

1б Десмургия — учение о повязках, их правильном применении и наложении при различных повреждениях и заболеваниях. Процесс наложения повязки называют перевязкой. 1б

Повязками называют специальные средства, предназначенные для закрепления перевязочного материала или компресса (_____ повязки), создания давления на определенную часть тела 1б (давящие повязки), обездвиживания (_____) поврежденной части тела (фиксирующие повязки).

Разновидность плоского бинта — эластичный¹⁶ бинт, который обладает способностью растягиваться, что дает возможность плотно фиксировать поврежденную часть тела без излишнего сдавливания.

Кроме плоских применяют маршевые⁰⁸ бинты. Их основное назначение — фиксация марлевой повязки на поврежденной части тела.

Максимальная оценка за правильно выполненное задание — 9 баллов

Оценка за задание 5 баллов

ТЕСТИРОВАНИЕ

Максимальное количество баллов — 45, по 3 балла за каждый правильный ответ.

Из предложенных вариантов ответов выберите один правильный.

Правильный вариант ответа выделите любым знаком.

1. Эта ягода, внешне похожая на вишню, но на самом деле все части у этого растения ЯДОВИТЫЕ. И все же препаратом из этого растения лечат сердечные болезни. Эта ягода:

- 38
- А) вороний глаз;
 - Б) паслен;
 - В) волчегодник;
 - Г) белладонна.



2. Укус этого паука не смертелен, но через 5-10 минут появляются симптомы: головная боль, слабость, ломота в суставах, жжение на месте укуса и болезненные ощущения во всем теле. Человек временно выходит из строя. Этот паук:

- 38
- А) тарантул;
 - Б) крестовик;
 - В) каракурт;
 - Г) черная вдова.

3. Вы с братом катаетесь на лодке. Вдруг поднялся сильный ветер, и лодка начала качаться, брат упал в воду. Какие Ваши дальнейшие действия?

- А) кричать и звать на помощь;
- 35 Б) протянуть весло и подтащить брата к корме;
- В) протянуть весло и подтащить брата к борту;
- Г) прыгнуть за борт и помочь брату не утонуть.

4. Опасное заболевание, которым в первую очередь рискуют заразиться лица, употребляющие наркотики:

- А) гепатит;
- об Б) сифилис;
- 35 В) холера;
- Г) туберкулез.

5. Посмотрите и определите правильное название этой эмблемы:

- А) Национальное общество Красного Креста и Красного Полумесяца;
- 35 Б) Международный комитет Красного Креста;
- В) Международная федерация обществ Красного Креста и Красного Полумесяца;
- Г) Европейское общество Красного Креста и Красного Полумесяца;



6. Определите, верны ли суждения о международном гуманитарном праве (МГП)?

- А) МГП регулирует отношения между сторонами в международном вооружённом конфликте;
- об Б) МГП регулирует отношения между сторонами в вооружённом конфликте, проходящем в пределах одного государства;
- 35 В) верны оба суждения;
- Г) оба суждения неверны.

7. На уроке химии или в домашних условиях, укажите, как правильно разбавлять серную кислоту водой:

- об А) вливать воду в кислоту;
- 35 Б) вливать кислоту в воду;
- В) всё равно каким способом;

Г) нельзя смешивать кислоту с водой.

8. Самый эффективный способ снятия умственного и физического напряжения:

- А) массаж;
- Б) релаксация;
- В) банные процедуры;
- Г) сон.

9. Оказание помощи при тяжелом ранении следует начинать с:

- А) иммобилизации;
- Б) обезболивания;
- В) остановки кровотечения;
- Г) наложение асептической повязки.

10. Согласно статистике, причинами детского травматизма чаще всего являются:

- А) беспечность взрослых;
- Б) недисциплинированность детей;
- В) несчастные случаи;
- Г) криминальная обстановка.

11. Вы шли по улице и увидели, что на скамейке сидит мужчина в неестественной позе и не подает никаких признаков жизни. Вы подошли к нему и смогли определить один из признаков клинической смерти:

- А) поверхностное дыхание;
- Б) нитевидный пульс;
- В) отсутствие сознания;
- Г) слабая реакция на свет.

12. По характеру нарушений физиологических функций продолжительный шум можно разделить на несколько категорий. Как называется категория, где уровень шума равен 115-120 дБ?

- А) раздражающий;
- Б) вредный;

- В) травмирующий;
- Г) смертельный.

Выберите несколько вариантов ответов:

13. В случае нарушения каких правил при работе в сети Интернет может наступить уголовная и административная ответственность?

- А) разглашение своих персональных данных;
- Б) увлечение азартными играми;
- В) использование и распространение вредоносных компьютерных программ;
- Г) нарушение этических норм;
- Д) добычу чужой конфиденциальной компьютерной информации в обход системы защиты.

14. На приближающуюся грозу указывают следующие признаки:

- А) усиление жары;
- Б) приглушенность звуков;
- В) отчетливая слышимость далеких звуков;
- Г) изнурительная духота, безветрие;
- Д) резкое понижение температуры воздуха;
- Е) постоянный сильный ветер.

15. Во время круиза на теплоходе случилась авария, в результате которой необходима посадка пассажиров на спасательные средства. Выберите из предлагаемых вариантов ваши дальнейшие действия:

- А) одеться, обуться, положить деньги и документы в полиэтиленовый пакет и убрать его в карман;
- Б) отправиться к капитану, чтобы выяснить причину происшедшего;
- В) прыгнуть за борт и плыть к ближайшей лодке;
- Г) надеть спасательный жилет;
- Д) спуститься в спасательный плот;
- Е) выполнять все указания экипажа корабля.

Оценка за задания 14 баллов

Материалы для обучающихся
ТЕОРЕТИЧЕСКИЙ ТУР

Максимальное количество баллов – 100. Время выполнения – 45 мин.

ЗАДАНИЯ ОТКРЫТОГО ТИПА

Максимальное количество баллов – 55.

Дайте *полные* или *краткие ответы* на задания, *вписав их* в соответствии с требованием к их выполнению.

1. Очень часто для перегонки какого-нибудь вещества из пункта «А» в пункт «Б» используют трубопровод. Опознавательная окраска внешней поверхности трубопровода, указывает на свойства транспортирующего вещества. Определите по цвету поверхности трубопровода, какие укрупненные группы веществ (газы, пар, вода, кислоты, горючие жидкости, щелочь, кислород) транспортируют по нему в каждом случае?

№	Цвет трубопровода	Вещество
1	Красный	кисл. 18
2	Оранжевый	кислоты 18
3	Желтый	саз 18
4	Зеленый	вода 18
5	Синий	воздух 08
6	Фиолетовый	щелочь 18
7	Коричневый	горючие жидкости 18

Максимальная оценка за правильно выполненное задание – 7 баллов

Оценка за задание 6 баллов

2. Заполните таблицу, используя подсказки.

Шкалы: скорость ветра; классификации смерча; сила землетрясения; сила цунами; сила ураганов; сила ущерба землетрясения.

Максимальный балл в шкале измерения данного явления: 4, 6, 9, 12

Ученые: А. Иمامура; Д. Меркалли; Г. Саффир; Т. Фудзит; Ч.Рихтер; Ф. Бофорт; Р. Симпсон

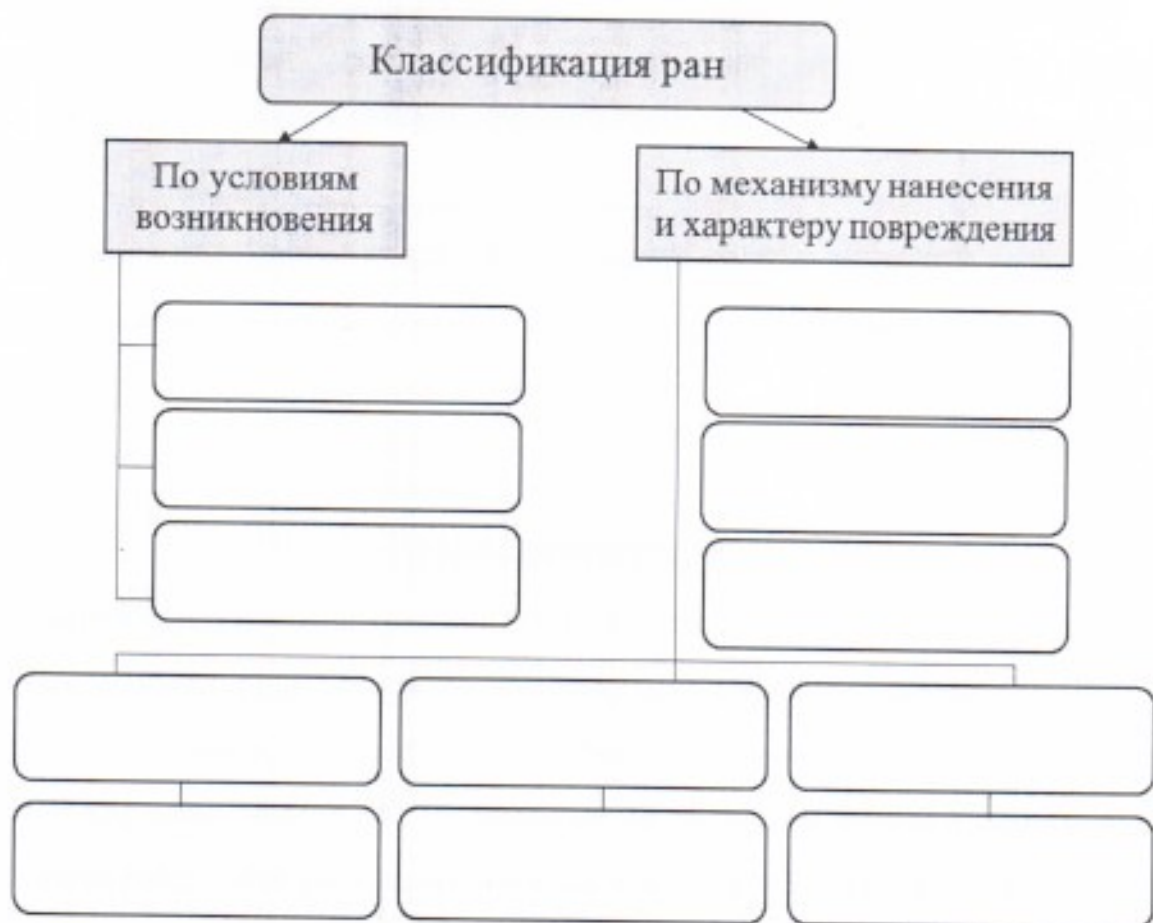
Шкала	Баллы	Ученые
Сила ветра	12 28	Ф. Бофорт 28
Минимальная сила ветра	6 28	Т. Фудзит 28
Сила землетрясения	9 28	Ч. Рихтер 28
Сила цунами	6 28	А. Иمامура 28
Сила урагана	12 08	Ф. Бофорт 08
Сила ущерба землетрясению	9 08	Ч. Рихтер 08

Максимальная оценка за правильно выполненное задание - 24 балла

Оценка за задание 24 баллов

3. Напишите определение понятия «Рана» и заполните схему классификации ран.

А) РАНА – это _____



Б)

Максимальная оценка за правильно выполненное задание – 15 баллов

Оценка за задание _____ 0 _____ баллов

4. Правила наложения повязок. Впишите недостающие слова.

С далекой древности врачи с успехом используют при лечении ран различные повязки, изготовленные из ткани, чаще всего — из шерсти 15

15 Венерологическая — учение о повязках, их правильном применении и наложении при различных повреждениях и заболеваниях. Процесс наложения повязки называют перевязкой 15

Повязками называют специальные средства, предназначенные для закрепления перевязочного материала или компресса (_____ повязки), создания давления на определенную часть тела (_____ повязки), обездвиживания (_____) поврежденной части тела (_____ повязки).

Разновидность плоского бинта — _____ бинт, который обладает способностью растягиваться, что дает возможность плотно фиксировать поврежденную часть тела без излишнего сдавливания.

Кроме плоских применяют _____ бинты. Их основное назначение — фиксация марлевой повязки на поврежденной части тела.

Максимальная оценка за правильно выполненное задание – 9 баллов

Оценка за задание _____ 3 _____ баллов

ТЕСТИРОВАНИЕ

Максимальное количество баллов – 45, по 3 балла за каждый правильный ответ.

Из предложенных вариантов ответов выберите один правильный.

Правильный вариант ответа выделите любым знаком.

1. Эта ягода, внешне похожая на вишню, но на самом деле все части у этого растения **ЯДОВИТЫЕ**. И все же препаратом из этого растения лечат сердечные болезни. Эта ягода:

А) вороний глаз;

Б) паслен;

В) волчегодник;

Г) белладонна.



2. Укус этого паука не смертелен, но через 5-10 минут появляются симптомы: головная боль, слабость, ломота в суставах, жжение на месте укуса и болезненные ощущения во всем теле. Человек временно выходит из строя. Этот паук:

А) тарантул;

Б) крестовик;

В) каракурт;

Г) черная вдова.

3. Вы с братом катаетесь на лодке. Вдруг поднялся сильный ветер, и лодка начала качаться, брат упал в воду. Какие Ваши дальнейшие действия?

- А) кричать и звать на помощь;
- Б) протянуть весло и подтащить брата к корме;
- 05 В) протянуть весло и подтащить брата к борту;
- Г) прыгнуть за борт и помочь брату не утонуть.

4. Опасное заболевание, которым в первую очередь рискуют заразиться лица, употребляющие наркотики:

- А) гепатит;
- 05 Б) сифилис;
- В) холера;
- Г) туберкулез.

5. Посмотрите и определите правильное название этой эмблемы:



- А) Национальное общество Красного Креста и Красного Полумесяца;
- 35 Б) Международный комитет Красного Креста;
- В) Международная федерация обществ Красного Креста и Красного Полумесяца;
- Г) Европейское общество Красного Креста и Красного Полумесяца;

6. Определите, верны ли суждения о международном гуманитарном праве (МГП)?

- А) МГП регулирует отношения между сторонами в международном вооружённом конфликте;
- 35 Б) МГП регулирует отношения между сторонами в вооружённом конфликте, проходящем в пределах одного государства;
- В) верны оба суждения;
- Г) оба суждения неверны.

7. На уроке химии или в домашних условиях, укажите, как правильно разбавлять серную кислоту водой:

- А) вливать воду в кислоту;
- 35 Б) вливать кислоту в воду;
- В) всё равно каким способом;

Г) нельзя смешивать кислоту с водой.

8. Самый эффективный способ снятия умственного и физического напряжения:

А) массаж;

Б) релаксация;

555

ШИФР УЧАСТНИКА 98**Материалы для обучающихся****ТЕОРЕТИЧЕСКИЙ ТУР**

Максимальное количество баллов – 100. Время выполнения – 45 мин.

ЗАДАНИЯ ОТКРЫТОГО ТИПА

Максимальное количество баллов – 55.

Дайте *полные* или *краткие ответы* на задания, *вписав их* в соответствии с требованием к их выполнению.

1. Очень часто для перегонки какого-нибудь вещества из пункта «А» в пункт «Б» используют трубопровод. Опознавательная окраска внешней поверхности трубопровода, указывает на свойства транспортирующего вещества. Определите по цвету поверхности трубопровода, какие укрупненные группы веществ (*газы, пар, вода, кислоты, горючие жидкости, щелочь, кислород*) транспортируют по нему в каждом случае?

№	Цвет трубопровода	Вещество
1	Красный	пар 1б
2	Оранжевый	кислота 1б
3	Желтый	газы 1б
4	Зеленый	вода 1б
5	Синий	воздух 0б.
6	Фиолетовый	щелочь 1б
7	Коричневый	горючие жидкости 1б

Максимальная оценка за правильно выполненное задание – 7 баллов

Оценка за задание 6 баллов

2. Заполните таблицу, используя подсказки.

Шкалы: *скорость ветра; классификации смерча; сила землетрясения; сила цунами; сила ураганов; сила ущерба землетрясения.*

Максимальный балл в шкале измерения данного явления: 4, 6, 9, 12

Ученые: А. Иمامура; Д. Меркалли; Г. Саффир; Т. Фудзит; Ч.Рихтер; Ф. Бофорт; Р. Симпсон

Шкала	Баллы	Ученые
скорость ветра *	12 +	Ф. Бофорт +
максимализация сердца *	6 +	Т. Фудзит +
сила землетрясений +	12	Ч. Рихтер +
сила цунами +	6 +	-
сила ураганов +		Бофорт -
сила удара землетрясений *		Д. Меркалли +

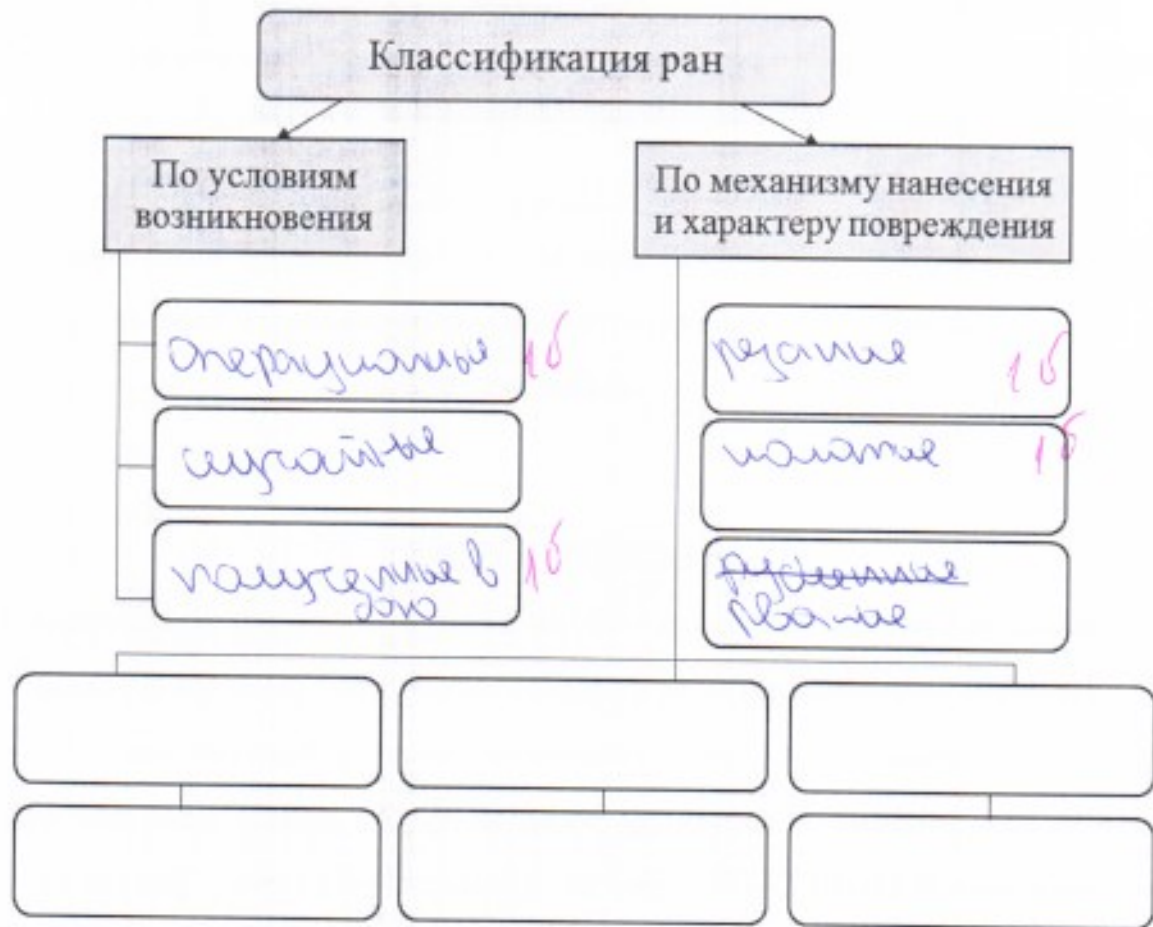
Максимальная оценка за правильно выполненное задание – 24 балла

Оценка за задание 16 баллов

3. Напишите определение понятия «Рана» и заполните схему классификации ран.

А) РАНА – это повреждение тканей или органов
вызванное внешним механическим воздействием

15



Б)

Максимальная оценка за правильно выполненное задание – 15 баллов

Оценка за задание 4 баллов

4. Правила наложения повязок. Впишите недостающие слова.

С далекой древности врачи с успехом используют при лечении ран различные повязки, изготовленные из ткани, чаще всего — марля 1б.

Десмургия 1б — учение о повязках, их правильном применении и наложении при различных повреждениях и заболеваниях. Процесс наложения повязки называют об 1б.

Повязками называют специальные средства, предназначенные для закрепления перевязочного материала или компресса (закрепительные 1б повязки), создания давления на определенную часть тела (давящие 1б повязки), обездвиживания (иммобилизационные 1б повязки) поврежденной части тела (фиксирующие 1б повязки).

Разновидность плоского бинта — эластичный бинт, который обладает способностью растягиваться, что дает возможность плотно фиксировать поврежденную часть тела без излишнего сдавливания.

Кроме плоских применяют марлевые бинты. Их основное назначение — фиксация марлевой повязки на поврежденной части тела.

Максимальная оценка за правильно выполненное задание — 9 баллов

Оценка за задание 8 баллов

ТЕСТИРОВАНИЕ

Максимальное количество баллов — 45, по 3 балла за каждый правильный ответ.

Из предложенных вариантов ответов выберите один правильный.

Правильный вариант ответа выделите любым знаком.

1. Эта ягода, внешне похожая на вишню, но на самом деле все части у этого растения **ЯДОВИТЫЕ**. И все же препаратом из этого растения лечат сердечные болезни. Эта ягода:

- А) вороний глаз;
- Б) паслен;
- В) волчегодник;
- Г) белладонна.



2. Укус этого паука не смертелен, но через 5-10 минут появляются симптомы: головная боль, слабость, ломота в суставах, жжение на месте укуса и болезненные ощущения во всем теле. Человек временно выходит из строя. Этот паук:

- А) тарантул;
- Б) крестовик;
- В) каракурт;
- Г) черная вдова.

3. Вы с братом катаетесь на лодке. Вдруг поднялся сильный ветер, и лодка начала качаться, брат упал в воду. Какие Ваши дальнейшие действия?

- А) кричать и звать на помощь;
- Б) протянуть весло и подтащить брата к корме;
- 0 В) протянуть весло и подтащить брата к борту;
- Г) прыгнуть за борт и помочь брату не утонуть.

4. Опасное заболевание, которым в первую очередь рискуют заразиться лица, употребляющие наркотики:

- А) гепатит;
- Б) сифилис;
- 0 В) холера;
- Г) туберкулез.

5. Посмотрите и определите правильное название этой эмблемы:

- А) Национальное общество Красного Креста и Красного Полумесяца;
- 0 Б) Международный комитет Красного Креста;
- 3 В) Международная федерация обществ Красного Креста и Красного Полумесяца;
- Г) Европейское общество Красного Креста и Красного Полумесяца;



6. Определите, верны ли суждения о международном гуманитарном праве (МГП)?

- А) МГП регулирует отношения между сторонами в международном вооружённом конфликте;
- 0 В) МГП регулирует отношения между сторонами в вооружённом конфликте, проходящем в пределах одного государства;
- В) верны оба суждения;
- Г) оба суждения неверны.

7. На уроке химии или в домашних условиях, укажите, как правильно разбавлять серную кислоту водой:

- 0 А) вливать воду в кислоту;
- 3 В) вливать кислоту в воду;
- В) всё равно каким способом;

Материалы для обучающихся
ТЕОРЕТИЧЕСКИЙ ТУР

Максимальное количество баллов – 100. Время выполнения – 45 мин.

ЗАДАНИЯ ОТКРЫТОГО ТИПА

Максимальное количество баллов – 55.

Дайте *полные* или *краткие ответы* на задания, *вписав их* в соответствии с требованием к их выполнению.

1. Очень часто для перегонки какого-нибудь вещества из пункта «А» в пункт «Б» используют трубопровод. Опознавательная окраска внешней поверхности трубопровода, указывает на свойства транспортирующего вещества. Определите по цвету поверхности трубопровода, какие укрупненные группы веществ (*газы, пар, вода, кислоты, горючие жидкости, щелочь, кислород*) транспортируют по нему в каждом случае?

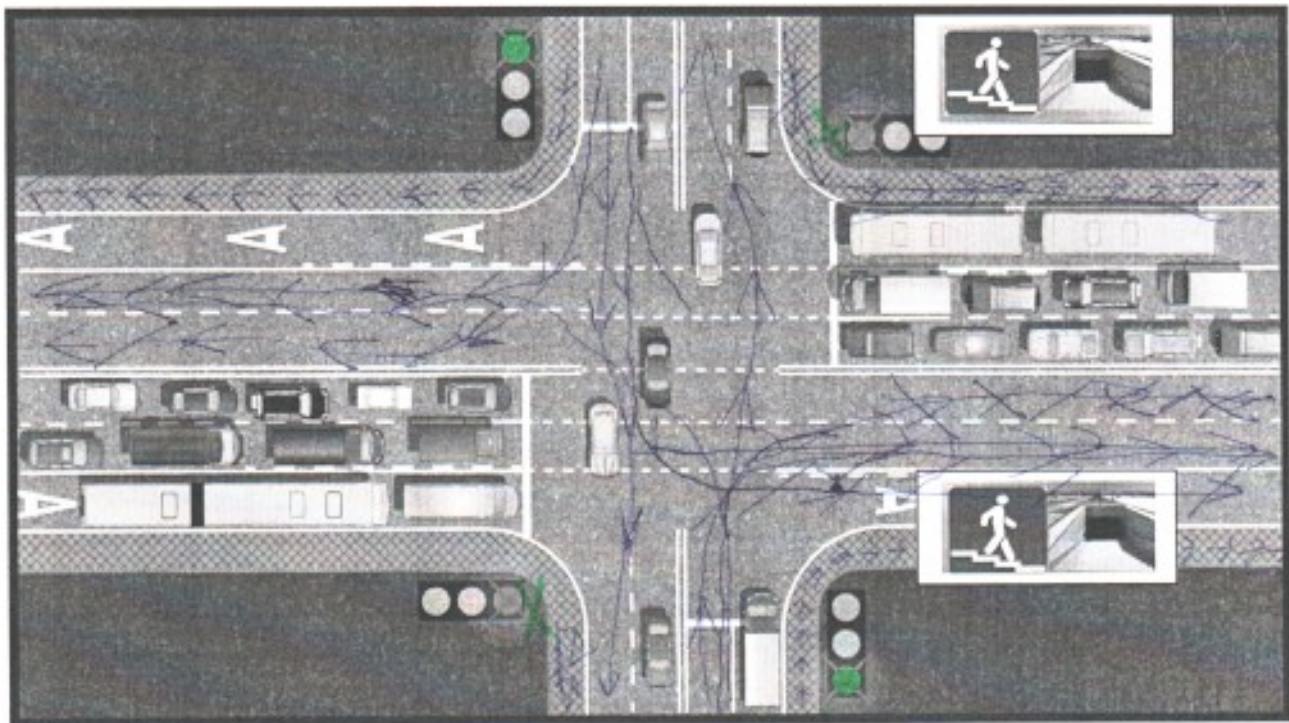
№	Цвет трубопровода	Вещество
1	Красный	вода пар газ 15
2	Оранжевый	кислород горючие жидкости 15
3	Желтый	кислород щелочь 05
4	Зеленый	вода щелочь 15
5	Синий	вода пар газ 05
6	Фиолетовый	щелочь кислород 15
7	Коричневый	горючие жидкости 15

Максимальная оценка за правильно выполненное задание – 7 баллов

Оценка за задание 5 баллов

2. Заполните таблицу, используя подсказки.

Шкалы: *скорость ветра; классификации смерча; сила землетрясения; сила цунами; сила ураганов; сила ущерба землетрясения.*



Оценка за задание 00 баллов

Задание 2. Оказание первой помощи. Стрелочками отметьте соответствие между средствами оказания первой помощи и их назначением (может быть 2 и более назначений).

Сухой лёд -	15	15	Остановка кровотечения
Жгут +			Обработка раны
Стерильные салфетки -			Иммобилизация
Бинт нестерильный +	15		Обезболивание, уменьшение отёка
Перекись водорода +	15		Наложение давящей повязки
Бинт эластичный -	15		

Максимальное количество баллов - 10.

Оценка за задание 55 баллов.

Задание 3. Оказание самопомощи. Рассмотрите ситуацию.

Вы ехали в автобусе без сопровождения взрослых. Неожиданно автобус сделал резкий манёвр, а потом затормозил, раздался удар, так как случилось дорожно-транспортное происшествие. В результате ДТП вы получили травмы:

1. Вы почувствовали сильную боль в переносице и обнаружили кровотечение из обеих ноздрей.
2. Увидели порванный рукав на правом предплечье и тёмную кровь, почувствовали режущую боль в этом месте, но инородных тел в ране нет.

Опишите ваши действия, вписав краткие или полные ответы на предложенные вопросы.

10 - Надо ли выходить из автобуса? Ответ обоснуйте

Из автобуса выходить не надо. Так
тёмная кровь на рукаве сигнализирует о
сильнейшем кровоотечении, надо сообщить
водителю, о возникшей проблеме и как можно быстрее

Если вы решили эвакуироваться из транспортного средства, то оказывать себе помощь вы начнёте ДО или ПОСЛЕ выхода? (нужное подчеркнуть).

30 + - Можно ли в таком случае оказать себе помощь без каких-либо подручных средств? ДА/НЕТ (нужное подчеркнуть).

30 + - Какой вид кровотечения описан под номером 1 из перечня травм, полученных в результате ДТП? внутреннее капиллярное
Каким образом вы будете оказывать себе помощь? наложение

давящей повязки ниже места оттока
клет крови в ране или ткани.

10 + - Какой вид кровотечения описан под номером 2 из перечня травм, полученных в результате ДТП? артериальное венозное

Каким образом вы будете оказывать себе помощь?
наложение давящей повязки ниже
места.

- Какие ещё следует выполнить действия, если кровотечение вы временно остановили? вызвать скорую

Максимальное количество баллов – 15. По 3 балла за каждый полный ответ, по 1 баллу за каждый краткий ответ и по 0,5 балла за подчеркнутый ответ.

Оценка за задание 96 баллов

Задание 4. Безопасность в природных условиях.

Впишите в предложенные фразы недостающие слова и ответьте на вопросы.

1. Если водоём является местом выгула и водопоя скота, то в нём купаться запрещено.

2. Вы увидели вдалеке молнию. Как понять, приближается к вам гроза, или она обойдёт место отдыха стороной? то приближается гроза, если ветер может быть переменный

Гроза к вам приближается, а вы в это время находитесь на лодке (из пластика) вдали от берега. Вам необходимо срочно добраться

до берега

Вы не успеваете подплыть к берегу. Вам нужно в этом случае занять положение лёжа

3. Вы с семьёй отдыхаете на озере. Вы захотели испытать свои силы и попробовать переплыть озеро. Как это сделать безопасно? в спл.

желание или др. спл. удерживать в соответствующем положении; хватать или негнать плывущего на лодке

Максимальное количество баллов - 15. По 2,5 балла за каждый ответ в вопросах № 1 и 2 и 5 баллов за полный ответ вопроса № 3. За неполный или неточный ответ количество баллов снижается.

Оценка за задание 9 баллов

ТЕСТИРОВАНИЕ

Максимальное количество баллов – 45, по 3 балла за каждый правильный ответ.

Из предложенных вариантов ответов выберите один правильный.

Правильный вариант ответа выделите любым знаком.

1. При закаливании организма в первую очередь улучшается работа:

- 30
- А) сердца;
 - Б) сосудов;
 - В) костей и мышц;
 - Г) головного мозга.

2. Какой из перечисленных факторов является наиболее благоприятным для дыхательной системы:

- 30
- А) чистый влажный воздух;
 - Б) сон;
 - В) комфортная температура воздуха;
 - Г) нахождение в помещении.

3. Для того, чтобы возник эффект от занятий физическими упражнениями, необходимо тренироваться:

- 05
- А) 1 раз в неделю;
 - Б) 2 раза в неделю;
 - В) 3 раза в неделю;
 - Г) не менее 4х раз в неделю;
 - Д) недельный объём тренировок не имеет значения.

4. Гироскутер, согласно действующим правилам, является:

- 05
- А) транспортным средством;
 - Б) игрушкой;

В) средством индивидуальной мобильности;

Г) ничего из перечисленного.

5. Вы передвигаетесь по улице на электросамокате, который развивает максимальную скорость 30 км/ч. Вы должны подчиняться правилам:

А) пешехода;

Б) водителя;

В) пассажира;

Г) отдельной категории участников дорожного движения.

6. Из школы до дома вы можете пройти по разным дорогам, но все они подразумевают переход дороги с интенсивным движением.

Наиболее безопасным маршрутом в этом случае будет:

А) наиболее короткий путь;

Б) путь через пешеходный переход с мигающим жёлтым светом на солнечных батареях;

В) путь через переход с обычным трёхцветным светофором;

Г) через подземный или надземный переход.

7. Вы идёте по улице мимо индивидуальных жилых домов. Вдруг со двора одного из домов, ворота, которого открыты, выбегает собака на середину улицы, смотрит на вас и лает, но пока не подбегает к вам. Выберите наиболее правильный вариант действий:

А) развернуться и пойти обратно;

Б) не разворачиваясь, пойти спиной вперёд и постараться уйти из её поля зрения;

В) залезть на ближайшее дерево или забор;

Г) взять палку и с криками побежать к собаке.

8. Вы находитесь дома одни. Для того, чтобы пообедать, вы включили приборы: электрочайник, микроволновку и блендер, которые работали *одновременно* от одной переноски с тремя розетками. Внезапно тройник заискрился, раздались хлопки, запахло жжёной пластмассой. В *первую очередь* нужно:

- 30
- А) накрыть тройник плотной тканью;
 - Б) выдернуть из тройника вилку провода от приборов;
 - В) выдернуть из розетки саму переноску;
 - Г) позвать соседей на помощь.

9. Наиболее подходящей обувью для летнего пешего похода в горах с **низким** уровнем сложности является:

- 30
- А) кроссовки с мягкой подошвой;
 - Б) резиновые сапоги;
 - В) специальная обувь с шипами на подошве;
 - Г) тёплые ботинки;
 - Д) кроссовки или ботинки с твёрдой подошвой и высоким голенищем.

10. Вы долго купаетесь в озере, при этом Ваша голова без головного убора находится под лучами солнца. Неожиданно вы почувствовали сильную головную боль, головокружение и слабость. Выберите наиболее подходящий порядок действий до приезда врачей.

- 30
- А) выйти из воды, зайти в тень, положить на голову что-то холодное (так как это солнечный удар), сообщить взрослым, выпить побольше воды, лежать до осмотра медиков;
 - Б) подойти ближе к берегу и, не выходя из воды, несколько раз окунуть голову в воду;
 - В) выйти из воды, растереться сухим полотенцем, сделать несколько интенсивных упражнений на солнце (чтоб согреться после переохлаждения), сообщить взрослым;
 - Г) выйти из воды, переодеться в сухую одежду, лечь на солнце, выпить тёплого чая и поесть горячую пищу.

11. В двухдневном пешем походе у вас закончилась питьевая вода, **а** на улице жарко, а до ближайшего населённого пункта – несколько часов ходьбы. На пути имеется пресный водоём, по внешним признакам чистый. Выберите наиболее подходящий вариант действий:

- 30
- А) взять воду из водоёма, но перед употреблением её прокипятить на костре около 30 мин;
 - Б) взять воду из водоёма, пропустить её через несколько слоёв марли, добавить кристаллик марганцовки, и тогда её можно пить;
 - В) не брать воду из водоёма, дойти до населенного пункта, купить воду в магазине;
 - Г) вырыть ямку недалеко от водоёма, чтоб в неё набиралась вода, которую можно будет пить.

12. Вы идёте по улице, как вдруг из-за угла дома кто-то вам кричит вслед оскорбления, и, судя по всему, там находятся несколько человек старше вас. Наиболее правильным вариантом ваших действий будет:

- 30
- А) повернуться в сторону кричащих, выкрикнуть оскорбление в ответ;
 - Б) не оборачиваться, по звуку определить примерно, откуда были крики, ускорить шаг и выйти из предполагаемого поля зрения кричащих;
 - В) подойти к хулиганам, предварительно подготовив какое-нибудь средство защиты, и выяснить, что им нужно;
 - Г) остановиться, позвонить родителям.

Выберите несколько вариантов ответов:

13. По каким участкам дороги может двигаться велосипедист с 14 лет?

- 20
- А) проезжая часть;
 - Б) тротуар;
 - В) пешеходная дорожка;
 - Г) автомагистраль;
 - Д) обочина.

14. Что из перечисленного является способом остановки кровотечения?

- 00
- А) наложение шины;
 - Б) наложение стерильной повязки;
 - В) прямое давление на рану;
 - Г) наложение холода;

Д) обработка раны антисептиком;

Е) сильное сгибание конечности.

15. В каких случаях можно отравиться съедобным грибом?

А) если он собран вдоль дорог или рельсов;

Б) если его собирали в тканевые пакеты;

В) если гриб сильно старый;

Г) если его собирали поздней осенью;

Д) если его после сбора не обрабатывали более 2 суток;

Е) если он рос в нескольких метрах от ядовитых грибов.

Оценка за задания 31 баллов

505

ШИФР УЧАСТНИКА 111

Материалы для обучающихся

Теоретический тур

Максимальное количество баллов – 100. Время выполнения – 45 мин.

ЗАДАНИЯ ОТКРЫТОГО ТИПА

Максимальное количество баллов – 55.

Дайте полные или краткие ответы на задания, вписав их в соответствии с требованием к их выполнению.

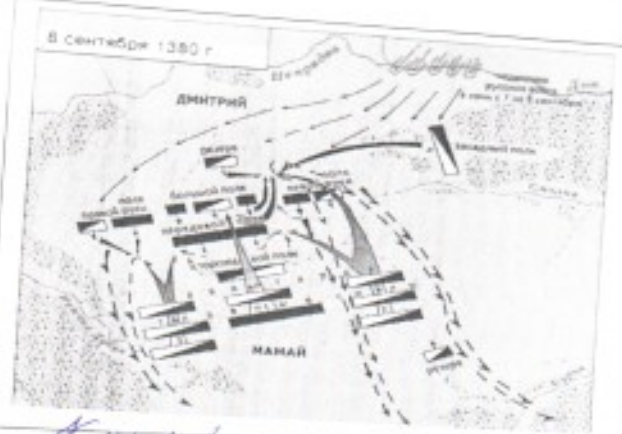
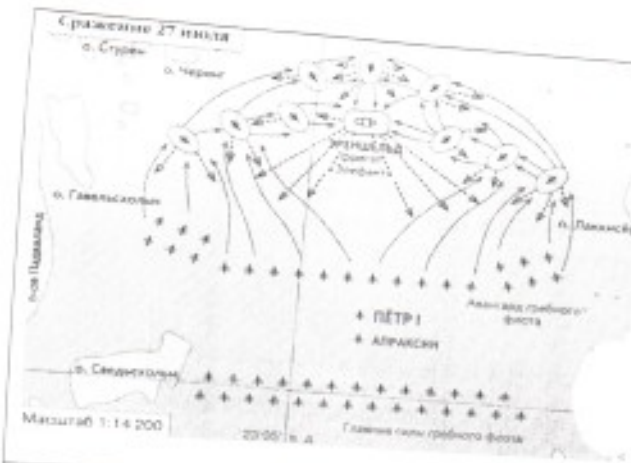
1. Соотнесите модель автомата Калашникова с аббревиатурой, соединив их стрелками.

Вид автомата Калашникова		Аббревиатура	
1		• АК-12	А
2		• АК-47	Б
3		• АКC-47	В
4		• АКC-74У	Г
5		• АК-74	Д
6		• АК-103	Е
7		• АК-200	Ж

Максимальная оценка за правильно выполненное задание – 14 баллов

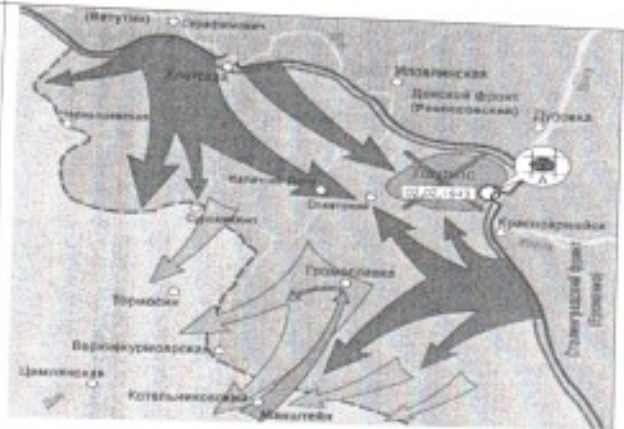
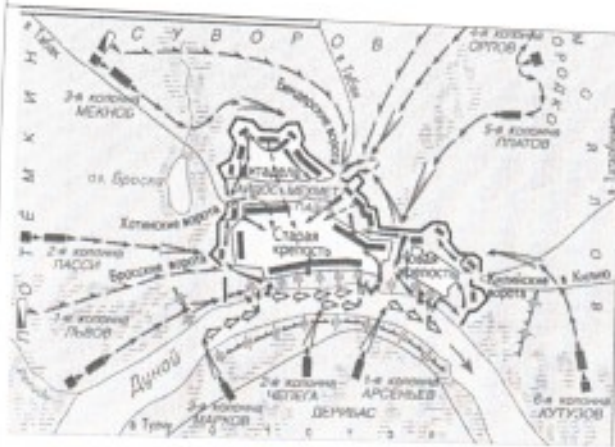
Оценка за задание 1 баллов

2. В России есть дни воинской славы, которые прославляют победы русской армии и флота. Рассмотрите карты сражений и определите их названия.



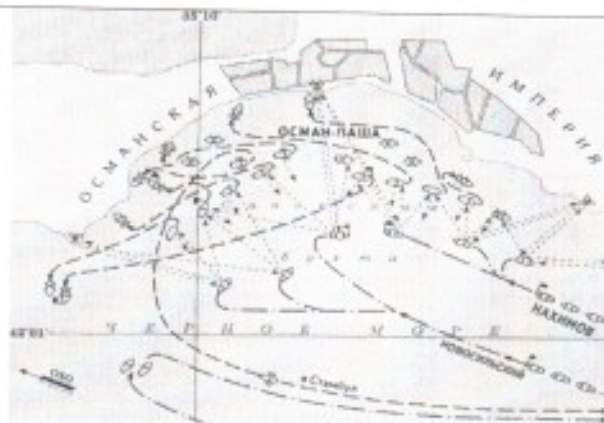
А.

Б. Куликовское сражение



В. Крымская война

Г. Крымская война



Д. Крымская война

Е.

Максимальная оценка за правильно выполненное задание – 12 баллов

Оценка за задание 6 баллов

3. В международном гуманитарном праве есть статус «Комбатант», который имеет определённые права. Определите знаком «+» категорию лиц, которые имеют право носить этот статус

Категория лиц	«+»	Категория лиц	«+»
Военнопленный		Шпион	
Летчик гражданской авиации	+	Военнослужащий	+
Чиновник		Военный инструктор	+
Разведчик	+	Военный журналист	+
Ополченец	+	Спасатель	+
Наёмник		Партизан	+
Священник		Военный врач	+

Максимальная оценка за правильно выполненное задание – 12 баллов

Оценка за задание 10 баллов

4. Из окна второго этажа горящего дома выпрыгнул человек, он катается по снегу, пытаясь сбить пламя. Его рубашка на спине уже перестала тлеть, под остатками ткани видна черная кожа с множеством влажных трещин и пузырей. Какие ваши действия для оказания помощи пострадавшему?

Выбери правильные ответы и расположи их в порядке очередности:

- 1. снять с пострадавшего рубашку; – ?
- 2. положить его на спину; –
- 3. перевернуть на живот; •
- 4. набрать как можно больше пакетов со снегом и положить их на спину; –
- 5. удалить остатки одежды и промыть кожу чистой водой; •
- 6. занести пострадавшего в соседнее здание; •
- 7. удалить остатки одежды, пузыри; –
- 8. вызвать пожарную службу и скорую помощь; •
- 9. наложить на место ожога стерильные повязки; –
- 10. накрыть спину чистой тканью; •
- 11. предложить пострадавшему 2-3 таблетки анальгина; –
- 12. предложить пострадавшему обильное теплое питье. •

Ответ: 8, 6, 1, 3, 5, 10, 12

Максимальная оценка за правильно выполненное задание – 14 баллов

Оценка за задание 10 баллов

5. Перечислите полномочия Президента РФ на период военного времени.

Максимальная оценка за правильно выполненное задание – 3 балла

Оценка за задание 3 баллов

ТЕСТИРОВАНИЕ

Максимальное количество баллов – 45, по 3 балла за каждый правильный ответ.

Из предложенных вариантов ответов выберите один правильный.

Правильный вариант ответа выделите любым знаком.

6. Военные действия местного значения между государствами, затрагивающие территории только этих противоборствующих сторон и осуществляемые для защиты территориальных, экономических, политических интересов противника– это:

- А) локальный конфликт;
- Б) локальная война;
- В) региональная война;
- Г) крупномасштабная война.

7. Социальное явление, выражение агрессивной позиции отдельных людей или группы лиц, в переводе с латыни слово означает «крайний», «сверх нормы»- это:

- А) терроризм;
- Б) экстремизм;
- В) преступление;
- Г) вандализм.

8. В этом году произошло объединение вида войск - Военно-воздушные силы с родом войск - Космические войска:

- А) 2010;
- Б) 2012;

В) 2013;

Г) 2015.

9. Первый в России вертолет, который мог действовать в любое время суток и при любой погоде. За это ударный вертолет получил прозвище «ночной охотник». По кодификации НАТО: Навос — «Опустошитель». Какое название у данного вертолета?

А) Ка-50;

Б) Ка -52;

В) Ми-28;

Г) Ми-24.

10. Противопехотная мина нажимного действия советского производства. Первый вариант мины не имеет устройства самоликвидации, второй снабжён устройством, которое обеспечивает самоликвидацию мины подрывом по истечении 1 – 40 часов с момента установки. Запрещена Женевской конвенцией. У военных она называется ...

А) лягушка;

Б) лепесток;

В) листок;

Г) охота.

11. Из предметов бытовой одежды для защиты кожи от капельно-жидких отравляющих веществ в зимний период наиболее пригодны дубленки и ватники, они защищают до ...

А) до 30 мин;

Б) до 1 часа;

В) до 1,5 часа;

Г) до 2 часов.

12. При какой команде военнослужащий, должен стать свободно, ослабить в колене правую или левую ногу, но не сходить с места и не разговаривать.

А) Вольно;

Б) Становись;

В) Смирно;

Г) Равняйсь.

13. Военнослужащим, проходящим военную службу по контракту, общая продолжительность которой в льготном исчислении составляет 10 лет и более, ежегодно предоставляется основной отпуск на ...

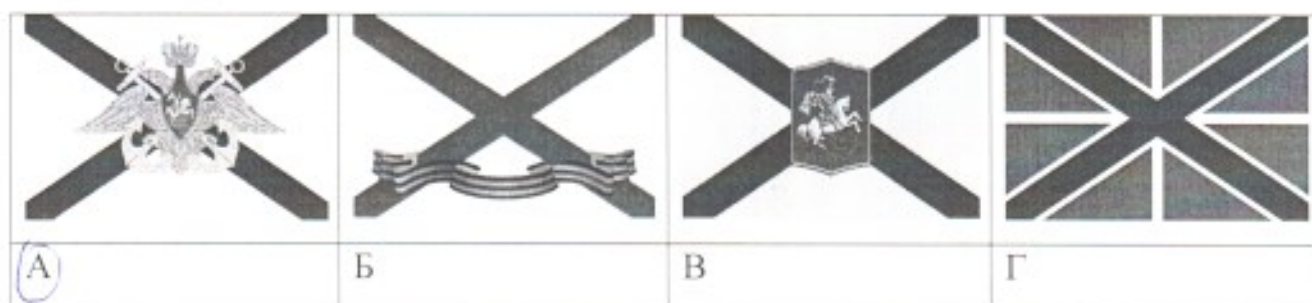
А) 30 суток;

Б) 35 суток;

В) 40 суток;

Г) 45 суток.

14. Определите, как выглядит в Российской Федерации (Георгиевский флаг ВМФ) кормовой флаг, которым в качестве высшей награды награждался корабль, чей флотский экипаж проявил исключительное мужество и отвагу в достижении победы или при защите чести военно-морского флага.



15. Огнестрельные переломы до Крымской войны 1853–1856 гг. считались показанием к первичной ампутации конечности. Н.И. Пирогов ввел «сберегательное» лечение огнестрельных переломов на войне, предложив использовать для этого (1854 г.)

А) аппарат Илизарова;

Б) гипсовую повязку;

В) скелетное вытяжение;

Г) повязку Дезо.

16. Острая, опасная для жизни аллергическая реакция, проявляющаяся обширным отеком кожи, слизистых оболочек называется





А) крапивница;

Б) анафилактический шок;

В) отек Квинке;

Г) аллергический ринит.

17. Нападения на эти объекты могут вызвать высвобождение опасных сил из-под контроля и последующие тяжелые потери среди населения. Поэтому для обозначения этих объектов используют специальный отличительный знак. Определите, что это за знак.

			
А	Б	В	Г

18. Одним из способов ориентирования на местности является ориентирование по местным признакам и предметам. Куда обращен опущенный край нижней перекладины креста на куполе церкви?

А) на восток;

Б) на запад;

В) на север;

Г) на юг.

19. Как называется городская субкультура, последователи которой совершают «прогулки» по крышам домов и зданий?

А) Скайуолинг;

Б) Руфинг;

В) Сталкинг;

Г) Паркур.

20. Верны ли следующие суждения о защите прав и свобод человека и гражданина?

А. Защита прав и свобод человека и гражданина осуществляется только в суде.

Б. Защита прав и свобод человека и гражданина не может осуществляться с помощью самозащиты.

А) верно только А;

Б) верно только Б;

В) верны оба суждения;

Г) оба суждения неверны.

Выберите несколько вариантов ответов:

21. Психологическая классификация воинских должностей имеет семь классов. Выберите правильные названия?

- А) операторский;
- Б) снайперский;
- В) водительский; 2
- Г) технологический;
- Д) начальствующий;
- Е) спортивный.

22. Определите существующие военные округа при военно-административном делении РФ в настоящее время.

- А) Северный флот
- Б) Северо-Кавказский военный округ
- В) Восточный военный округ
- Г) Балтийский флот
- Д) Сибирский военный округ
- Е) Центральный военный округ

23. Воинская обязанность предусматривает:

- А) медицинское освидетельствование;
- Б) добровольную подготовку к военной службе;
- В) воинский учет;
- Г) прохождение военной службы по призыву; 1
- Д) прохождение военной службы по контракту;
- Е) пребывание в запасе.

24. Методами неспецифической профилактики инфекционных заболеваний являются:

- А) применение профилактических прививок;
- Б) закаливание;
- В) занятия физической культурой;
- Г) хорошее питание и приём витаминов; 0
- Д) чтение медицинской литературы.

25. Признаком того, что жгут недостаточно затянут:

- А) конечность бледнеет (восковая бледность);
- Б) создаётся венозный стаз, конечность приобретает синюшную окраску;
- В) останавливается артериальное кровотечение; -
- Г) не останавливается артериальное кровотечение;
- Д) усиливается венозное кровотечение.

Оценка за задания 2 баллов

Материалы для обучающихся
Теоретический тур


Максимальное количество баллов – **100**. Время выполнения – **45** мин.

ЗАДАНИЯ ОТКРЫТОГО ТИПА

Максимальное количество баллов – **55**.

Дайте *полные* или *краткие ответы* на задания, *вписав их* в соответствии с требованием к их выполнению.

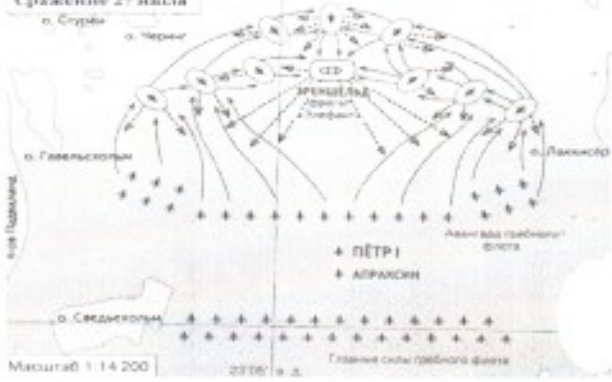





1. Соотнесите модель автомата Калашникова с аббревиатурой, соединив их стрелками.

Вид автомата Калашникова		Аббревиатура	
1		AK-12	А
2		AK-47	Б
3		AKC-47	В
4		AKC-74У	Г
5		AK-74	Д
6		AK-103	Е
7		AK-200	Ж

Максимальная оценка за правильно выполненное задание – 14 баллов

Оценка за задание 2 баллов

2. В России есть дни воинской славы, которые прославляют победы русской армии и флота. Рассмотрите карты сражений и определите их названия.

<p>Сражение 27 июля о. Сурби</p>  <p>Макштаб 1:14 200 23°00' в. д.</p>	<p>8 сентября 1380 г.</p> 
<p>А. <i>Битва на реке Сурби</i></p>	<p>Б. <i>Битва на Куликовом поле</i></p>
	
<p>В. <i>Битва на реке Измаил</i></p>	<p>Г. <i>Битва на реке Очаков</i></p>
	
<p>Д. <i>Битва на реке Измаил</i></p>	<p>Е. <i>Битва на реке Очаков</i></p>

Максимальная оценка за правильно выполненное задание – 12 баллов

Оценка за задание 10 баллов

3. В международном гуманитарном праве есть статус «Комбатант», который имеет определённые права. Определите знаком «+» категорию лиц, которые имеют право носить этот статус

Категория лиц	«+»	Категория лиц	«+»
Военнопленный	+	Шпион	
Летчик гражданской авиации	+	Военнослужащий	
Чиновник		Военный инструктор	
Разведчик		Военный журналист	+
Ополченец		Спасатель	+
Наёмник		Партизан	
Священник		Военный врач	+

Максимальная оценка за правильно выполненное задание – 12 баллов

Оценка за задание 2 баллов

4. Из окна второго этажа горящего дома выпрыгнул человек, он катается по снегу, пытаясь сбить пламя. Его рубашка на спине уже перестала тлеть, под остатками ткани видна черная кожа с множеством влажных трещин и пузырей. Какие ваши действия для оказания помощи пострадавшему?

Выбери правильные ответы и расположи их в порядке очередности:

1. снять с пострадавшего рубашку;
2. положить его на спину;
3. перевернуть на живот;
4. набрать как можно больше пакетов со снегом и положить их на спину;
5. удалить остатки одежды и промыть кожу чистой водой;
6. занести пострадавшего в соседнее здание;
7. удалить остатки одежды, пузыри;
8. вызвать пожарную службу и скорую помощь;
9. наложить на место ожога стерильные повязки;
10. накрыть спину чистой тканью;
11. предложить пострадавшему 2-3 таблетки анальгина;
12. предложить пострадавшему обильное теплое питье.

Ответ: 8, 6, 2, 9.

Максимальная оценка за правильно выполненное задание – 14 баллов

Оценка за задание 8, 2 баллов

5. Перечислите полномочия Президента РФ на период военного времени.

Максимальная оценка за правильно выполненное задание – 3 балла

Оценка за задание 0 баллов

ТЕСТИРОВАНИЕ

Максимальное количество баллов – 45, по 3 балла за каждый правильный ответ.

Из предложенных вариантов ответов выберите один правильный.

Правильный вариант ответа выделите любым знаком.

6. Военные действия местного значения между государствами, затрагивающие территории только этих противоборствующих сторон и осуществляемые для защиты территориальных, экономических, политических интересов противника– это:

- А) локальный конфликт;
- Б) локальная война; 0
- В) региональная война;
- Г) крупномасштабная война.

7. Социальное явление, выражение агрессивной позиции отдельных людей или группы лиц, в переводе с латыни слово означает «крайний», «сверх нормы»- это:

- А) терроризм;
- Б) экстремизм; 2
- В) преступление;
- Г) вандализм.

8. В этом году произошло объединение вида войск - Военно-воздушные силы с родом войск - Космические войска:

- А) 2010;
- Б) 2012;

- В) 2013; 0
- Г) 2015.

9. Первый в России вертолет, который мог действовать в любое время суток и при любой погоде. За это ударный вертолет получил прозвище «ночной охотник». По кодификации НАТО: Navos — «Опустошитель». Какое название у данного вертолета?

- А) Ка-50;
- Б) Ка -52; 2
- В) Ми-28;
- Г) Ми-24.

10. Противопехотная мина нажимного действия советского производства. Первый вариант мины не имеет устройства самоликвидации, второй снабжён устройством, которое обеспечивает самоликвидацию мины подрывом по истечении 1 – 40 часов с момента установки. Запрещена Женевской конвенцией. У военных она называется ...

- А) лягушка;
- Б) лепесток; 2
- В) листок;
- Г) охота.

11. Из предметов бытовой одежды для защиты кожи от капельно-жидких отравляющих веществ в зимний период наиболее пригодны дубленки и ватники, они защищают до ...

- А) до 30 мин;
- Б) до 1 часа;
- В) до 1,5 часа; 0
- Г) до 2 часов.

12. При какой команде военнослужащий, должен стать свободно, ослабить в колене правую или левую ногу, но не сходить с места и не разговаривать.

- А) Вольно; 2
- Б) Становись;
- В) Смирно;

Г) Равняйсь.

13. Военнослужащим, проходящим военную службу по контракту, общая продолжительность которой в льготном исчислении составляет 10 лет и более, ежегодно предоставляется основной отпуск на ...

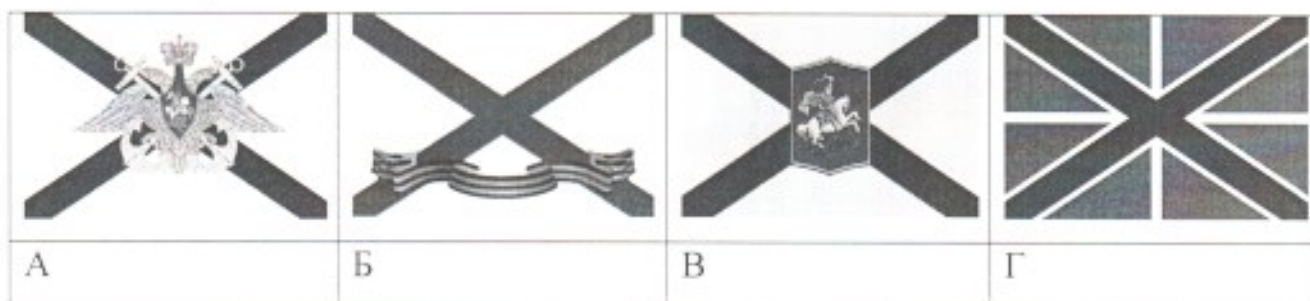
А) 30 суток;

Б) 35 суток;

В) 40 суток;

Г) 45 суток.

14. Определите, как выглядит в Российской Федерации (Георгиевский флаг ВМФ) кормовой флаг, которым в качестве высшей награды награжден корабль, чей флотский экипаж проявил исключительное мужество и отвагу в достижении победы или при защите чести военно-морского флага.



15. Огнестрельные переломы до Крымской войны 1853–1856 гг. считались показанием к первичной ампутации конечности. Н.И. Пирогов ввел «сберегательное» лечение огнестрельных переломов на войне, предложив использовать для этого (1854 г.)

А) аппарат Илизарова;

Б) гипсовую повязку;

В) скелетное вытяжение;

Г) повязку Дезо.





16. Острая, опасная для жизни аллергическая реакция, проявляющаяся обширным отеком кожи, слизистых оболочек называется

А) крапивница;

Б) анафилактический шок;

- В) отек Квинке;
- Г) аллергический ринит.

17. Нападения на эти объекты могут вызвать высвобождение опасных сил из-под контроля и последующие тяжелые потери среди населения. Поэтому для обозначения этих объектов используют специальный отличительный знак. Определите, что это за знак.

			
А	Б	В	Г

18. Одним из способов ориентирования на местности является ориентирование по местным признакам и предметам. Куда обращен опущенный край нижней перекладины креста на куполе церкви?

- А) на восток;
- Б) на запад;
- В) на север;
- Г) на юг.

19. Как называется городская субкультура, последователи которой совершают «прогулки» по крышам домов и зданий?

- А) Скайуолинг;
- Б) Руфинг;
- В) Сталкинг;
- Г) Паркур.

20. Верны ли следующие суждения о защите прав и свобод человека и гражданина?

А. Защита прав и свобод человека и гражданина осуществляется только в суде.

Б. Защита прав и свобод человека и гражданина не может осуществляться с помощью самозащиты.

- А) верно только А;
- Б) верно только Б;
- В) верны оба суждения;

Г) оба суждения неверны.

Выберите несколько вариантов ответов:

21. Психологическая классификация воинских должностей имеет семь классов. Выберите правильные названия?

А) операторский;

Б) снайперский;

22 В) водительский;

Г) технологический;

Д) начальствующий;

Е) спортивный.

22. Определите существующие военные округа при военно-административном делении РФ в настоящее время.

А) Северный флот

Б) Северо-Кавказский военный округ

23 В) Восточный военный округ

Г) Балтийский флот

Д) Сибирский военный округ

Е) Центральный военный округ

23. Воинская обязанность предусматривает:

А) медицинское освидетельствование;

Б) добровольную подготовку к военной службе;

В) воинский учет; 15

Г) прохождение военной службы по призыву;

Д) прохождение военной службы по контракту;

Е) пребывание в запасе.

24. Методами неспецифической профилактики инфекционных заболеваний являются:

А) применение профилактических прививок;

Б) закаливание;

В) занятия физической культурой; 0

Г) хорошее питание и приём витаминов;

Д) чтение медицинской литературы.

25. Признак того, что жгут недостаточно затянут:

- А) конечность бледнеет (восковая бледность);
- Б) создаётся венозный стаз, конечность приобретает синюшную окраску;
- 15 В) останавливается артериальное кровотечение;
- Г) не останавливается артериальное кровотечение;
- Д) усиливается венозное кровотечение.

Оценка за задания 16 баллов

**Материалы для обучающихся
Теоретический тур**








Максимальное количество баллов – 100. Время выполнения – 45 мин.

ЗАДАНИЯ ОТКРЫТОГО ТИПА

Максимальное количество баллов – 55.

Дайте *полные* или *краткие ответы* на задания, *вписав их* в соответствии с требованием к их выполнению.

1. Соотнесите модель автомата Калашникова с аббревиатурой, соединив их стрелками.

Вид автомата Калашникова		Аббревиатура	
1		АК-12	А
2		АК-47	Б
3		АКС-47	В
4		АКС-74У	Г
5		АК-74	Д
6		АК-103	Е
7		АК-200	Ж

1-2 - А В 3-9 - 4 8 5 6 - 6 8 2 4 - А

Максимальная оценка за правильно выполненное задание – 14 баллов

Оценка за задание 14 баллов

2. В России есть дни воинской славы, которые прославляют победы русской армии и флота. Рассмотрите карты сражений и определите их названия.

<p>Сражение 27 июля о. Сурбин о. Червог о. Гамельсборн о. Сведенкюль Масштаб 1:14 200 22°05' в.д. Главные силы гребного флота ПЕТР I АЛЕКСАНДР</p>	<p>В сентябре 1711 г. ДМИТРИЙ МАНАЙ</p>
<p>А. <i>Суворова битва 00</i></p> <p>СУВОРОВ МЕЛНОВ ЛАСИН ЧЕЛЫШ АРСЕНЬЕВ ДЕРЖИАС МАРЛОВ</p>	<p>Б. <i>Куликовская битва 20</i></p> <p>КЛИКОВ СОКОЛОВ СОКОЛОВ ТОРМОС ВЕЛИКОКУРСКОЕ ЦЕНТРАЛЬНЫЙ ФРОНТ ДУБОВКА КАВКАЗСКИЙ ФРОНТ КОТЕЛЬНИКОВСКОЕ ОБЛАСТНОЕ</p>
<p>В. <i>Дуновская битва 00</i></p> <p>ОСМАНСКАЯ ИМПЕРИЯ ОСМАН ПАСА ЧЕРНОМОРЕ КОСАКОВСКОЕ</p>	<p>Г. <i>Меданская битва 20</i></p> <p>ЦЕНТРАЛЬНЫЙ ФРОНТ ВЕТЕР ОТДЕЛЕНИЕ</p>
<p>Д. <i>Свиштовское сражение русско-турецкой войны 20</i></p>	<p>Е. <i>Курская битва 20</i></p>

Максимальная оценка за правильно выполненное задание – 12 баллов

Оценка за задание 8 баллов

3. В международном гуманитарном праве есть статус «Комбатант», который имеет определённые права. Определите знаком «+» категорию лиц, которые имеют право носить этот статус

Категория лиц	«+»	Категория лиц	«+»
Военнопленный		Шпион	
Летчик гражданской авиации	+	Военнослужащий	+
Чиновник		Военный инструктор	+
Разведчик	+	Военный журналист	
Ополченец	+	Спасатель	
Наёмник		Партизан	+
Священник		Военный врач	

Максимальная оценка за правильно выполненное задание – 12 баллов

Оценка за задание 12 баллов

4. Из окна второго этажа горящего дома выпрыгнул человек, он катается по снегу, пытаясь сбить пламя. Его рубашка на спине уже перестала тлеть, под остатками ткани видна черная кожа с множеством влажных трещин и пузырей. Какие ваши действия для оказания помощи пострадавшему?

Выбери правильные ответы и расположи их в порядке очередности:

1. снять с пострадавшего рубашку;
2. положить его на спину;
3. перевернуть на живот;
4. набрать как можно больше пакетов со снегом и положить их на спину;
5. удалить остатки одежды и промыть кожу чистой водой;
6. занести пострадавшего в соседнее здание;
7. удалить остатки одежды, пузыри;
8. вызвать пожарную службу и скорую помощь;
9. наложить на место ожога стерильные повязки;
10. накрыть спину чистой тканью;
11. предложить пострадавшему 2-3 таблетки анальгина;
12. предложить пострадавшему обильное теплое питье.

Ответ: 1 2 3 4 5 7 8 9 10 11

Максимальная оценка за правильно выполненное задание – 14 баллов

Оценка за задание 12 баллов

5. Перечислите полномочия Президента РФ на период военного времени.

Решение с Воинской комиссией, Воздушная мор. флотия
и другие силы

об

Максимальная оценка за правильно выполненное задание – 3 балла

Оценка за задание 0 баллов

ТЕСТИРОВАНИЕ

Максимальное количество баллов – 45, по 3 балла за каждый правильный ответ.

Из предложенных вариантов ответов выберите один правильный.

Правильный вариант ответа выделите любым знаком.

6. Военные действия местного значения между государствами, затрагивающие территории только этих противоборствующих сторон и осуществляемые для защиты территориальных, экономических, политических интересов противника– это:

- А) локальный конфликт;
- Б) локальная война;
- В) региональная война;
- Г) крупномасштабная война.

2б

7. Социальное явление, выражение агрессивной позиции отдельных людей или группы лиц, в переводе с латыни слово означает «крайний», «сверх нормы»- это:

- А) терроризм;
- Б) экстремизм;
- В) преступление;
- Г) вандализм.

2б

8. В этом году произошло объединение вида войск - Военно-воздушные силы с родом войск - Космические войска:

- А) 2010;
- Б) 2012;

2б

В) 2013;

2015.

9. Первый в России вертолет, который мог действовать в любое время суток и при любой погоде. За это ударный вертолет получил прозвище «ночной охотник». По кодификации НАТО: Навос — «Опустошитель». Какое название у данного вертолета?

А) Ка-50;

Б) Ка -52;

В) Ми-28; 20

Г) Ми-24.

10. Противопехотная мина нажимного действия советского производства. Первый вариант мины не имеет устройства самоликвидации, второй снабжён устройством, которое обеспечивает самоликвидацию мины подрывом по истечении 1 – 40 часов с момента установки. Запрещена Женевской конвенцией. У военных она называется ...

А) Лягушка;

Б) Лепесток; 20

В) Листок;

Г) Охота.

11. Из предметов бытовой одежды для защиты кожи от капельно-жидких отравляющих веществ в зимний период наиболее пригодны дубленки и ватники, они защищают до ...

А) до 30 мин;

Б) до 1 часа;

В) до 1,5 часа; 20

Г) до 2 часов.

12. При какой команде военнослужащий, должен стать свободно, ослабить в колене правую или левую ногу, но не сходить с места и не разговаривать.

А) Вольно;

Б) Становись;

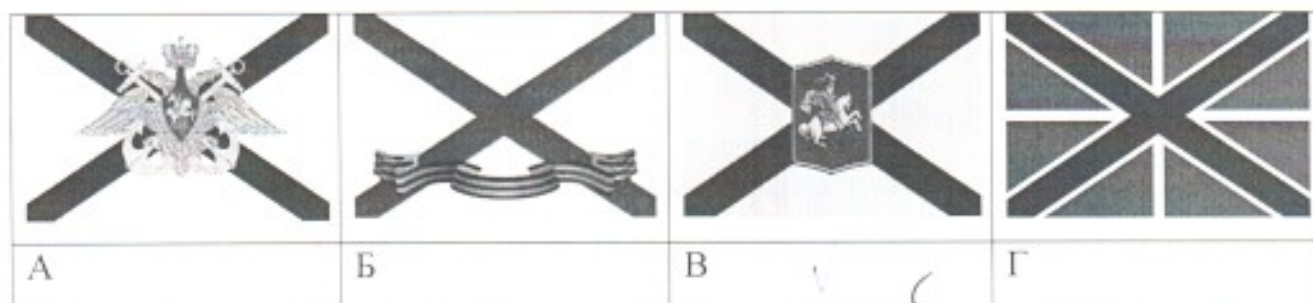
В) Смирно; 25

Г) Равныйсь.

13. Военнослужащим, проходящим военную службу по контракту, общая продолжительность которой в льготном исчислении составляет 10 лет и более, ежегодно предоставляется основной отпуск на ...

- А) 30 суток;
- Б) 35 суток;
- В) 40 суток;
- Г) 45 суток.

14. Определите, как выглядит в Российской Федерации (Георгиевский флаг ВМФ) кормовой флаг, которым в качестве высшей награды награжден корабль, чей флотский экипаж проявил исключительное мужество и отвагу в достижении победы или при защите чести военно-морского флага.



15. Огнестрельные переломы до Крымской войны 1853–1856 гг. считались показанием к первичной ампутации конечности. Н.И. Пирогов ввел «сберегательное» лечение огнестрельных переломов на войне, предложив использовать для этого (1854 г.)

- А) аппарат Илизарова;
- Б) гипсовую повязку;
- В) скелетное вытяжение;
- Г) повязку Дезо.





16. Острая, опасная для жизни аллергическая реакция, проявляющаяся обширным отеком кожи, слизистых оболочек называется

- А) крапивница;
- Б) анафилактический шок;

В) отек Квинке;

Г) аллергический ринит. 20

17. Нападения на эти объекты могут вызвать высвобождение опасных сил из-под контроля и последующие тяжелые потери среди населения. Поэтому для обозначения этих объектов используют специальный отличительный знак. Определите, что это за знак.

			
А	Б	В ✓	Г ✓ 20

18. Одним из способов ориентирования на местности является ориентирование по местным признакам и предметам. Куда обращен опущенный край нижней перекладины креста на куполе церкви?

А) на восток;

Б) на запад;

В) на север; 20

Г) на юг.

19. Как называется городская субкультура, последователи которой совершают «прогулки» по крышам домов и зданий?

А) Скайуолинг;

Б) Руфинг;

В) Сталкинг; 20

Г) Паркур.

20. Верны ли следующие суждения о защите прав и свобод человека и гражданина?

А. Защита прав и свобод человека и гражданина осуществляется только в суде.

Б. Защита прав и свобод человека и гражданина не может осуществляться с помощью самозащиты.

А) верно только А;

Б) верно только Б;

В) верны оба суждения;

Г) оба суждения неверны. 26

Выберите несколько вариантов ответов:

21. Психологическая классификация воинских должностей имеет семь классов. Выберите правильные названия?

- А) операторский;
- Б) снайперский;
- В) водительский; 36
- Г) технологический;
- Д) начальствующий;
- Е) спортивный.

22. Определите существующие военные округа при военно-административном делении РФ в настоящее время.

- А) Северный флот
- Б) Северо-Кавказский военный округ
- В) Восточный военный округ
- Г) Балтийский флот; 36
- Д) Сибирский военный округ
- Е) Центральный военный округ

23. Воинская обязанность предусматривает:

- А) медицинское освидетельствование;
- Б) добровольную подготовку к военной службе;
- В) воинский учет; 36
- Г) прохождение военной службы по призыву;
- Д) прохождение военной службы по контракту;
- Е) пребывание в запасе.

24. Методами неспецифической профилактики инфекционных заболеваний являются:

- А) применение профилактических прививок;
- Б) закаливание;
- В) занятия физической культурой; 25
- Г) хорошее питание и приём витаминов;
- Д) чтение медицинской литературы.

25. Признаком того, что жгут недостаточно затянут:

- А) конечность бледнеет (восковая бледность);
- Б) создаётся венозный стаз, конечность приобретает синюшную окраску;
- В) останавливается артериальное кровотечение;
- Г) не останавливается артериальное кровотечение; 30
- Д) усиливается венозное кровотечение.

Оценка

за

задания

4/2

баллов

**Материалы для обучающихся
Теоретический тур**








Максимальное количество баллов – 100. Время выполнения – 45 мин.

ЗАДАНИЯ ОТКРЫТОГО ТИПА

Максимальное количество баллов – 55.

Дайте *полные* или *краткие ответы* на задания, *вписав их* в соответствии с требованием к их выполнению.

1. Соотнесите модель автомата Калашникова с аббревиатурой, соединив их стрелками.

Вид автомата Калашникова		Аббревиатура	
1 Г		AK-12	А
2 Б		AK-47	Б
3 В		AKC-47	В
4 Г		AKC-74U	Г
5 Д		AK-74	Д
6 Е		AK-103	Е
7 Ж		AK-200	Ж

Handwritten connections: 1 to Ж, 2 to Б, 3 to В, 4 to Г, 5 to Д, 6 to Е, 7 to А.

Максимальная оценка за правильно выполненное задание – 14 баллов

Оценка за задание 14 баллов

2. В России есть дни воинской славы, которые прославляют победы русской армии и флота. Рассмотрите карты сражений и определите их названия.

<p>Сражение 27 июля о. Стрельна о. Черны о. Гавелисгольм о. Свединогорен + ПЕТР I + АЛЕКСАНДР Линия под командой флота Гавелисгольм флота Масштаб 1:14 200 22°05' в.д.</p>	<p>В сентябре 1380 г. ДМИТРИЙ МАМАЙ</p>
<p>А. <i>Битва на реке Куликов</i> <i>Оборона крепости Котлин</i></p>	<p>Б. <i>Битва на реке Угре</i></p>
<p>С У В О Р О В 3-я колонна МЕХКОС о.а. Броска Холмские воеводы 2-я колонна ЛАСИИ 4-я колонна ПЛЮСОВ Данной 1-я колонна ЧЕПЕТА 2-я колонна АРСЕНЬЕВ ДЕРЖИАС 5-я колонна МАРКОВ 6-я колонна ЛУТЦОВ Старая крепость Новая крепость Котельские в Котель 3-я колонна ОЯСОВ 4-я колонна ПЛЮСОВ 5-я колонна ПЛЮСОВ 6-я колонна ПЛЮСОВ</p>	<p>Исходный фронт (Ремесловский) Дубовка Калининград Самолетов Грозныйскан Тороскин Верхнекурмасовка Цемлинский Котельнический Манштейн Сталинградский фронт (Берлин)</p>
<p>В. <i>Полтавское сражение</i></p>	<p>Г. <i>Сталинградская битва</i></p>
<p>ОСМАНСКАЯ ИМПЕРИЯ ОСМАН ПАША УБЕРИОБМОДЕК НАДИНОЕ СЕРБИЯ МАКЕДОНИИ</p>	<p>СЕНТРАЛЬНАЯ БИТВА СРЕДНЯЯ БИТВА ВОСТОК СЕНТРАЛЬНАЯ БИТВА СРЕДНЯЯ БИТВА ВОСТОК СЕНТРАЛЬНАЯ БИТВА СРЕДНЯЯ БИТВА ВОСТОК</p>
<p>Д. <i>Византийское сражение</i> <i>Русско-турецкое сражение</i></p>	<p>Е. <i>Крымская война</i></p>

Максимальная оценка за правильно выполненное задание – 12 баллов

Оценка за задание 80 баллов

3. В международном гуманитарном праве есть статус «Комбатант», который имеет определённые права. Определите знаком «+» категорию лиц, которые имеют право носить этот статус

Категория лиц	«+»	Категория лиц	«+»
Военнопленный		Шпион	
Летчик гражданской авиации	+ 20	Военнослужащий	+ 20
Чиновник		Военный инструктор	+ 20
Разведчик	+ 20	Военный журналист	
Ополченец	+ 20	Спасатель	
Наёмник		Партизан	+ 20
Священник		Военный врач	

Максимальная оценка за правильно выполненное задание – 12 баллов

Оценка за задание 12 баллов

4. Из окна второго этажа горящего дома выпрыгнул человек, он катается по снегу, пытаясь сбить пламя. Его рубашка на спине уже перестала тлеть, под остатками ткани видна черная кожа с множеством влажных трещин и пузырей. Какие ваши действия для оказания помощи пострадавшему?

Выбери правильные ответы и расположи их в порядке очередности:

1. снять с пострадавшего рубашку;
2. положить его на спину;
3. перевернуть на живот;
4. набрать как можно больше пакетов со снегом и положить их на спину;
5. удалить остатки одежды и промыть кожу чистой водой;
6. занести пострадавшего в соседнее здание;
7. удалить остатки одежды, пузыри;
8. вызвать пожарную службу и скорую помощь;
9. наложить на место ожога стерильные повязки;
10. накрыть спину чистой тканью;
11. предложить пострадавшему 2-3 таблетки анальгина;
12. предложить пострадавшему обильное теплое питье.

Ответ: 1358944 W H G
20 1 20 20 20 20

Максимальная оценка за правильно выполненное задание – 14 баллов

Оценка за задание 14 баллов

5. Перечислите полномочия Президента РФ на период военного времени.

решение с военной необходимостью, единственные меры военного време-

ны

00

Максимальная оценка за правильно выполненное задание – 3 балла

Оценка за задание 00 баллов

ТЕСТИРОВАНИЕ

Максимальное количество баллов – 45, по 3 балла за каждый правильный ответ.

Из предложенных вариантов ответов выберите один правильный.

Правильный вариант ответа выделите любым знаком.

6. Военные действия местного значения между государствами, затрагивающие территории только этих противоборствующих сторон и осуществляемые для защиты территориальных, экономических, политических интересов противника– это:

- А) локальный конфликт;
- Б) локальная война; 20
- В) региональная война;
- Г) крупномасштабная война.

7. Социальное явление, выражение агрессивной позиции отдельных людей или группы лиц, в переводе с латыни слово означает «крайний», «сверх нормы»- это:

- А) терроризм;
- Б) экстремизм; 20
- В) преступление;
- Г) вандализм.

8. В этом году произошло объединение вида войск - Военно-воздушные силы с родом войск - Космические войска:

- А) 2010;
- Б) 2012; 20

В) 2013;

Г) 2015.

9. Первый в России вертолет, который мог действовать в любое время суток и при любой погоде. За это ударный вертолет получил прозвище «ночной охотник». По кодификации НАТО: Navoc — «Опустошитель». Какое название у данного вертолета?

А) Ка-50;

Б) Ка -52;

В) Ми-28;

Г) Ми-24.

10. Противопехотная мина нажимного действия советского производства. Первый вариант мины не имеет устройства самоликвидации, второй снабжён устройством, которое обеспечивает самоликвидацию мины подрывом по истечении 1 – 40 часов с момента установки. Запрещена Женевской конвенцией. У военных она называется ...

А) лягушка;

Б) лепесток;

В) листок;

Г) охота.

11. Из предметов бытовой одежды для защиты кожи от капельно-жидких отравляющих веществ в зимний период наиболее пригодны дубленки и ватники, они защищают до ...

А) до 30 мин;

Б) до 1 часа;

В) до 1,5 часа;

Г) до 2 часов.

12. При какой команде военнослужащий, должен стать свободно, ослабить в колене правую или левую ногу, но не сходить с места и не разговаривать.

А) Вольно;

Б) Становись;

В) Смирно;

Г) Равняйсь.

13. Военнослужащим, проходящим военную службу по контракту, общая продолжительность которой в льготном исчислении составляет 10 лет и более, ежегодно предоставляется основной отпуск на ...

А) 30 суток;

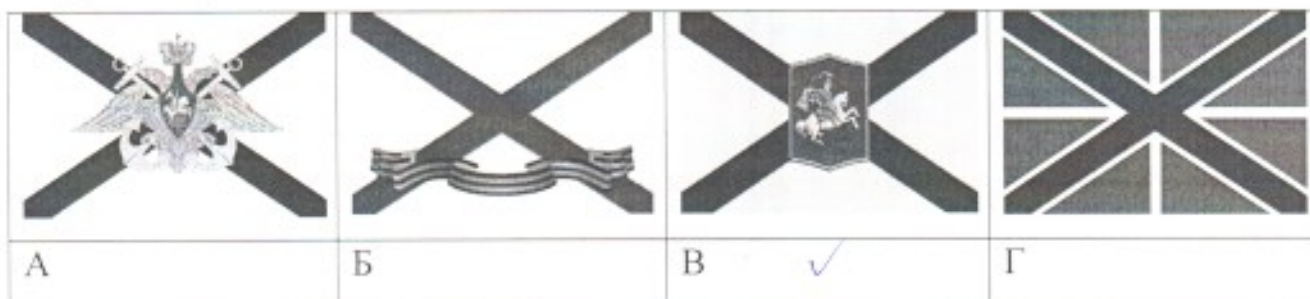
Б) 35 суток;

В) 40 суток;

Г) 45 суток.

کد

14. Определите, как выглядит в Российской Федерации (Георгиевский флаг ВМФ) кормовой флаг, которым в качестве высшей награды награждался корабль, чей флотский экипаж проявил исключительное мужество и отвагу в достижении победы или при защите чести военно-морского флага.



کد

15. Огнестрельные переломы до Крымской войны 1853–1856 гг. считались показанием к первичной ампутации конечности. Н.И. Пирогов ввел «сберегательное» лечение огнестрельных переломов на войне, предложив использовать для этого (1854 г.)

А) аппарат Илизарова;

Б) гипсовую повязку;

В) скелетное вытяжение;

Г) повязку Дезо.

کد

16. Острая, опасная для жизни аллергическая реакция, проявляющаяся обширным отеком кожи, слизистых оболочек называется

А) крапивница;

Б) анафилактический шок;





В) отек Квинке;

Г) аллергический ринит.

25

17. Нападения на эти объекты могут вызвать высвобождение опасных сил из-под контроля и последующие тяжелые потери среди населения. Поэтому для обозначения этих объектов используют специальный отличительный знак. Определите, что это за знак.

0-25

			
А	Б	В ✓	Г

18. Одним из способов ориентирования на местности является ориентирование по местным признакам и предметам. Куда обращен опущенный край нижней перекладины креста на куполе церкви?

А) на восток;

Б) на запад;

В) на север;

Г) на юг.

25

19. Как называется городская субкультура, последователи которой совершают «прогулки» по крышам домов и зданий?

А) Скайуолинг;

Б) Руфинг;

В) Сталкинг;

Г) Паркур.

25

20. Верны ли следующие суждения о защите прав и свобод человека и гражданина?

А. Защита прав и свобод человека и гражданина осуществляется только в суде.

Б. Защита прав и свобод человека и гражданина не может осуществляться с помощью самозащиты.

А) верно только А;

Б) верно только Б;

В) верны оба суждения;

Оба суждения неверны. 25

Выберите несколько вариантов ответов:

21. Психологическая классификация воинских должностей имеет семь классов. Выберите правильные названия?

- А) операторский;
- Б) снайперский;
- В) водительский; 325
- Г) технологический;
- Д) начальствующий;
- Е) спортивный.

22. Определите существующие военные округа при военно-административном делении РФ в настоящее время.

- А) Северный флот
- Б) Северо-Кавказский военный округ
- В) Восточный военный округ 325
- Г) Балтийский флот
- Д) Сибирский военный округ
- Е) Центральный военный округ

23. Воинская обязанность предусматривает:

- А) медицинское освидетельствование;
- Б) добровольную подготовку к военной службе;
- В) воинский учет; 325
- Г) прохождение военной службы по призыву;
- Д) прохождение военной службы по контракту;
- Е) пребывание в запасе.

24. Методами неспецифической профилактики инфекционных заболеваний являются:

- А) применение профилактических прививок; 325
- Б) закаливание;
- В) занятия физической культурой;
- Г) хорошее питание и приём витаминов;
- Д) чтение медицинской литературы.

25. Признак того, что жгут недостаточно затянут:

- А) конечность бледнеет (восковая бледность);
- Б) создаётся венозный стаз, конечность приобретает синюшную окраску;
- В) останавливается артериальное кровотоечение;
- С) не останавливается артериальное кровотоечение;
- Д) усиливается венозное кровотоечение.

30

Оценка за задания 3942 баллов

